



HAL
open science

Mécanique et théorie des poutres droites

Jean-Michel Génevaux

► **To cite this version:**

Jean-Michel Génevaux. Mécanique et théorie des poutres droites. Licence. Licence Acoustique et Vibrations, Le Mans, France. 2020. cel-00697806v6

HAL Id: cel-00697806

<https://cel.hal.science/cel-00697806v6>

Submitted on 18 Dec 2024 (v6), last revised 10 Feb 2025 (v7)

HAL is a multi-disciplinary open access archive for the deposit and dissemination of scientific research documents, whether they are published or not. The documents may come from teaching and research institutions in France or abroad, or from public or private research centers.

L'archive ouverte pluridisciplinaire **HAL**, est destinée au dépôt et à la diffusion de documents scientifiques de niveau recherche, publiés ou non, émanant des établissements d'enseignement et de recherche français ou étrangers, des laboratoires publics ou privés.

Licence Acoustique et Vibration
2ième année

Mécanique, Résistance des matériaux
Statique des poutres droites

<https://umtice.univ-lemans.fr/course/view.php?id=9252>

”A quoi cela sert, la statiques des poutres ?”

La réponse est dans la vidéo 383, accessible via :
<https://umotion.univ-lemans.fr/search/?q=383>

Numéro d’anonymat :



Jean-Michel Génevaux et Maxime Lanoy
et les complicités des collègues et étudiants qui ont détecté
les (trop) nombreuses fautes de grammaire et d’orthographe !

December 18, 2024

Contents

1	Les capacités de statique des poutres droites.	3
2	Méthode de travail	5
2.1	Modalités de formation	5
2.2	Conseils aux référentes	8
2.3	Modalités d'évaluation des capacités.	8
2.3.1	Évaluation par examen individuel	9
2.3.2	Évaluation par ceinture individuelle	9
2.4	Absence	13
3	Le changement de base et son influence sur l'expression des composantes d'un vecteur	15
3.1	Extrait de cours de mathématiques de L3	15
3.2	Quelques exercices	17
4	Le torseur, les torseurs de chargement et les torseurs transmissibles par une liaison parfaite	19
4.1	Le torseur, un outil franco-français	19
4.1.1	Torseur en un point	19
4.1.2	Torseur linéique en un point	21
4.2	Torseurs de chargement	21
4.3	Liaisons parfaites normalisée - torseur des efforts transmissibles	23
5	De la statique du solide à la statique des poutres	27
5.1	Équilibre d'un solide	27
5.1.1	Principe fondamental de le statique et réactions aux liaisons.	27
5.1.2	Exemple isostatique	28
5.2	Torseur d'inter-effort entre deux solides dans un repère local	30
6	Torseur des efforts intérieurs et composantes	33
6.1	Notion de poutre	33
6.2	Torseur d'inter-effort entre un solide et une poutre	35
6.3	Torseur des efforts intérieurs	37
6.3.1	Deux méthodes de calcul du torseur des efforts intérieurs	38
6.3.2	Les composantes	39
7	Détermination du chargement maximal admissible par une poutre	42
7.1	L'élasticité tridimensionnelle linéaire isotrope	42
7.2	Description de la section droite	45
7.2.1	Moment statique d'une aire plane	45
7.2.2	Barycentre	47
7.2.3	Moment quadratique - rayon de giration - produit quadratique d'une aire plane	47
7.2.4	moment polaire	51
7.2.5	Quelques exemples de sections droites	52
7.3	Cinématique de la section droite	54
7.3.1	Exemple d'utilisation : sollicitation de traction	56
7.3.2	flexion simple autour de l'axe $H\vec{z}$	59

7.4	Dimensionnement	60
7.4.1	Cercle de Mohr des contraintes	60
7.4.2	Critères de limite d'élasticité	60
7.4.3	Méthode de calcul : détermination des limites d'élasticité	62
7.4.4	Exemple de calcul	64
8	Déplacement et rotation d'un point d'une poutre droite	66
8.1	Formules de Bresse	66
8.2	Résolutions de problèmes	72
8.2.1	Résolution par superposition	73
9	Les travaux pratiques	76
9.1	Travail pratique : une poutre en flexion	76
9.2	Travail pratique : une poutre en torsion	76
9.3	Travail pratique : une poutre constituée de plusieurs segments assemblés.	77
10	Feedback	78

Chapter 1

Les capacités de statique des poutres droites.

1. rouge de mathématiques, 0 pts, antidopage 5-6 : Déterminer les composantes d'un vecteur suite à un changement de base orthogonale normée.
2. blanche de mécanique du solide indéformable, 0 pts, antidopage 5-6 : Déterminer les équations d'équilibre d'un solide indéformable et les réactions aux liaisons.
3. jaune, 5 pts, antidopage 5-6 : Calculer en fonction du chargement, en un point qui coupe un solide en deux, le torseur des actions d'une partie sur l'autre.
4. orange, 5 pts, antidopage 4-5-6 : Déterminer les composantes d'un torseur d'efforts intérieurs et les exprimer en fonction du chargement.
5. bleue, 5 pts, antidopage 3-4-5-6 : Déterminer le chargement maximal admissible d'une structure isostatique formée par des poutres droites.
6. verte, 5 pts, antidopage 2-3-4-5-6 : Déterminer un élément du torseur de déplacement d'un point d'une structure isostatique formée de poutres droites et l'exprimer en fonction du chargement.
7. marron, 5 pts : Établir et mener une campagne de mesure afin de comparer des résultats expérimentaux et théoriques pour un problème de résistance des matériaux.
8. noire, 5 pts : Présenter dans un document écrit, en respectant les règles de l'art, les résultats d'une campagne de mesure et de comparaison à une théorie, pour un problème de résistance des matériaux.

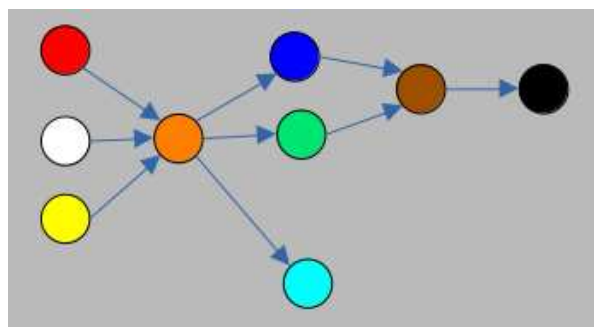


Figure 1.1: Parcours d'évaluation : chaque couleur correspond à une capacité.

Les capacités blanche et rouge sont des prérequis de la capacité orange.

La capacité orange est un prérequis d'une capacité cyan du cours de mécanique des solides déformables de L3.

A quoi correspondent les couleurs blanche, jaune, etc. Cela correspond-t-il à quelque chose ?

La réponse est dans la vidéo 088 disponible sur

<http://umotion.univ-lemans.fr/videos/?tag=088>. Regarde-la, puis évalue son intérêt en entourant son numéro à la dernière page du poly si elle est intéressante, ou en la barrant si elle n'est pas intéressante.

Quelle est la signification de la figure associée à la capacité rouge ? La réponse est dans la vidéo 554 disponible sur

<http://umotion.univ-lemans.fr/videos/?tag=554>. Regarde-la, puis évalue son intérêt en entourant son numéro à la dernière page du poly si elle est intéressante, ou en la barrant si elle n'est pas intéressante.

Peut-on repasser les capacités et y'a-t-il un malus de point si c'est le cas ? La réponse est dans la vidéo 555 disponible sur

<http://umotion.univ-lemans.fr/videos/?tag=555>. Regarde-la, puis évalue son intérêt en entourant son numéro à la dernière page du poly si elle est intéressante, ou en la barrant si elle n'est pas intéressante.

Quels sont les prérequis de la capacité blanche ? La réponse est dans la vidéo 556 disponible sur

<http://umotion.univ-lemans.fr/videos/?tag=556>. Regarde-la, puis évalue son intérêt en entourant son numéro à la dernière page du poly si elle est intéressante, ou en la barrant si elle n'est pas intéressante.

Chapter 2

Méthode de travail

Avant toute chose, visionnez

<https://www.youtube.com/watch?v=RVB3PBPxMWg>,

pour mettre en place une méthode d'apprentissage qui vous fera rentabiliser au mieux 1 heure de travail personnel... ce qui vous laissera du temps pour aller au cinéma, lire un livre, organiser une fête, etc.

Après visionnage, il est temps de construire votre boîte de Leitner et vos cartes mentales. Personnellement, j'utilise "anki" pour gérer ma boîte de Leitner et je construis mes cartes mentales avec "freeplane".

<https://apps.ankiweb.net/>,
<https://docs.freeplane.org/>,

Nous vous souhaitons une bonne découverte, une intéressante confrontation des modèles que nous développerons lors de cette formation à la réalité des essais effectués en travaux pratiques, et bien sûr... une bonne coopération entre vous, sauf lors de la validation de capacités.

2.1 Modalités de formation

La formation se fera en mode CRAIES (Coopérons à notre Rythme d'Apprentissage Individualisé, Efficace et Sympathique) : travail sur polycopié de cours, visionnage de vidéos, questionnements, analyse des réponses de l'enseignant, travail sur exercices ciblés (brevets) en présence d'autres étudiantes travaillant sur le même exercice, positionnement de sa progression personnelle en terme de brevet par rapport à l'ensemble de la promotion. Elle mixe une école mutuelle et un apprentissage à son rythme.

Pour les AJAC, à partir de septembre 2023, la formation se fait obligatoirement par groupe d'au maximum 3 étudiantes sur un problème à résoudre pour chaque capacité.

Vous trouverez

- le polycopié de cours, dans lequel sont inclus des liens vers des vidéos à visionner et des suggestions d'exercices à faire, appelé brevets, <https://cel.hal.science/cel-00697806>,
- d'un graphe des étapes de formation (brevets) (Fig. 2.1),
- le polycopié de brevets, <https://cel.hal.science/cel-00611694>.

Il y a plusieurs vidéos qui ne nous concernent pas du tout et des pages auxquelles vous vous référez qui ne sont pas les mêmes que dans notre poly... La réponse est dans la vidéo 317 disponible sur

		28	33	31	39	90	37		
							38		179
		236	210	225	226	237	78	184	181
							180		
							2		
	54	185	94	40	6	822	821	182	
	186								
	93	42	95	50	89	51	52	96	75
									74
								57	97

Figure 2.1: Parcours de formation : les numéros représentent les brevets, le fond de couleur la capacité travaillée.

<http://umotion.univ-lemans.fr/videos/?tag=317>.

Regarde-la, puis évalue son intérêt en cochant une case à la dernière page du polycopié.

Doit-on connaître toutes les formules du poly ? La réponse est dans la vidéo 060 disponible sur

<http://umotion.univ-lemans.fr/videos/?tag=060>.

Regarde-la, puis évalue son intérêt en entourant son numéro à la dernière page du poly si elle est intéressante, ou en la barrant si elle n'est pas intéressante.

A quelle vitesse doit-on avancer dans le polycopié, dans les exercices... ? La réponse est dans la vidéo 233 disponible sur

<http://umotion.univ-lemans.fr/videos/?tag=233>.

Regarde-la, puis évalue son intérêt en entourant son numéro à la dernière page du poly si elle est intéressante, ou en la barrant si elle n'est pas intéressante.

Comment lier l'école mutuelle et l'apprentissage à son rythme La réponse est dans la vidéo 311 disponible sur

<http://umotion.univ-lemans.fr/videos/?tag=311>.

Regarde-la, puis évalue son intérêt en entourant son numéro à la dernière page du poly si elle est intéressante, ou en la barrant si elle n'est pas intéressante.

Les phases de travail

Les séquences d'enseignement sont divisées en plusieurs parties :

1. Avant la séance, lecture de quelques pages du polycopié et visionnage des vidéos indiquées dans ces quelques pages. En tant que lectrice, cochez les paragraphes où vous avez une question et écrivez votre question dans la marge.
2. Une phase de questions/réponses est faite : l'enseignant demande à chaque étudiante si elle a

une ou plusieurs questions et s'assure que ses réponses sont suffisamment explicites. Pendant cette phase, une étudiante prend le rôle de secrétaire pour noter la question et la réponse. A la fin de la phase de questions/réponses, elle fait relire sa prise de note par deux étudiantes qui modifient/complètent. L'enseignant intègre cette prise de note au sein du polycopié pour l'année suivante.

3. Parfois une activités de la forme 1-4-tous est animée par l'enseignant, soit à propos d'une structure réelle, soit à propos d'une méthodologie de résolution. Il vous est posé une question à laquelle vous répondrez en 3 temps : 3 minutes de réflexion personnelle, 3 minutes de confrontation d'idées par groupe de 4, puis mise en commun collective sous le format : "Nous pensons que ... et nos raisons sont les suivantes ...".
4. La salle est ensuite mise en configuration avec une zone de travail personnel et une zone de consultation des corrigés ou résultats. Afin que chacun puisse se concentrer sur son travail, si vous échangez avec vos voisines, merci de le faire en chuchotant. Une phase d'exercices (brevets) est alors faite, à votre rythme. Pour plus d'efficacité asseyez-vous avec les étudiantes qui font le même brevet. Une banque de brevets regroupe l'ensemble des exercices. Ils ont été écrits suite aux erreurs rencontrées les plus fréquemment dans les copies d'examen. Cette banque de brevets concerne l'ensemble des trois années de formation à l'ENSIM et certaines formations à l'UFR. Des leprelo de différentes couleurs sont à votre disposition avec, sur chaque page, soit la correction du brevet, soit la réponse, et le prénom de la référente. Les brevets sont en effet de deux natures :
 - avec correction accessible : la correction de l'enseignant est consultable dans la salle, dans une zone dédiée où smartphone et stylo sont interdits, afin que vous puissiez comparer à votre tentative de résolution, comprendre ce qu'il vous reste à faire, et retourner à votre place pour le faire.
 - avec référente : l'enseignant sollicite les étudiantes qui ont réussi un brevet, pour que l'une d'elle accepte d'être référente. Une étudiante ne peut être référente que d'un seul brevet au cours de l'année scolaire. Pas d'inquiétude, il y aura un brevet pour chacune ;).
5. Les trois dernières minutes d'une séquence sont utilisées, pour compléter la fiche de feedback à propos de cette séance sur

<https://sondage.univ-lemans.fr/limesurvey/index.php/387443?lang=fr>

ou en flashant le qrcode en fin de polycopié avec votre smartphone. Vous serez autorisée à sortir de la salle si

- vous avez posé votre brique LEGO sur le graphe de progression à proximité de la tuile comportant le numéro du brevet sur lequel vous êtes en train de travailler. Ce plateau vous permet de savoir instantanément quelle est votre progression par rapport à celle de la promotion. Il permet aussi lors de la séance suivante à l'enseignant, de vous répartir dans la salle en fonction du brevet que vous travaillez.
- vous confirmez à l'enseignant que vous avez complété le quiz de feedback.

Est-ce que vous allez faire cours ? La réponse est dans la vidéo 062 disponible sur <http://umotion.univ-lemans.fr/videos/?tag=062>. Regarde-la, puis évalue son intérêt en entourant son numéro à la dernière page du poly si elle est intéressante, ou en la barrant si elle n'est pas intéressante.

Je n'ai pas fini de lire le polycopié. Est-ce grave ? La réponse est dans la vidéo 073 disponible sur <http://umotion.univ-lemans.fr/videos/?tag=073>. Regarde-la, puis évalue son intérêt en entourant son numéro à la dernière page du poly si elle est intéressante, ou en la barrant si elle n'est pas intéressante.

Existe-t-il un polycopié pour les brevets ? La réponse est dans la vidéo 273 disponible sur <http://umotion.univ-lemans.fr/videos/?tag=273>.

Regarde-la, puis évalue son intérêt en entourant son numéro à la dernière page du poly si elle est intéressante, ou en la barrant si elle n'est pas intéressante.

J'ai un problème de signe au brevet 179, est-ce normal ? La réponse est dans la vidéo 553 disponible sur

<http://umotion.univ-lemans.fr/videos/?tag=553>.

Regarde-la, puis évalue son intérêt en entourant son numéro à la dernière page du poly si elle est intéressante, ou en la barrant si elle n'est pas intéressante.

Les capacités peuvent-elles être passées dans n'importe quel ordre ? La réponse est dans la vidéo 560 disponible sur

<http://umotion.univ-lemans.fr/videos/?tag=560>.

Regarde-la, puis évalue son intérêt en entourant son numéro à la dernière page du poly si elle est intéressante, ou en la barrant si elle n'est pas intéressante.

Si je n'ai pas validé la compétence blanche, mais ai réussi chez moi les exercices correspondant à cette capacité, ai-je la possibilité de me mettre avec un groupe composé de membres rendu au stade des capacités jaunes ou dois-je rester avec mon équipe de capacités blanches ? La réponse est dans la vidéo 561 disponible sur

<http://umotion.univ-lemans.fr/videos/?tag=561>.

Regarde-la, puis évalue son intérêt en entourant son numéro à la dernière page du poly si elle est intéressante, ou en la barrant si elle n'est pas intéressante.

2.2 Conseils aux référentes

Si vous êtes "référente", merci de veillez à respecter ces conseils. Si vous êtes "apprenante", merci de signaler à la référente qu'elle ne respecte pas ces conseils : vous l'aidez à prendre la bonne posture afin que vous appreniez le plus efficacement possible.

Quelques conseils à la référente :

- Commence par demander "Tu en es où ? Qu'est ce que tu as déjà fait ? A quoi ça te fait penser ? Raconte ce que tu as compris du problème.". Essaie de parler moins de 10% du temps. Cela permet de l'aider juste là où elle en a besoin.
- Fais écrire l'étudiante plutôt que de le faire à sa place.
- Si tu dois faire l'exercice car l'étudiante n'écrit pas, essaie de la faire travailler sur un exercice jumeau : changer les fonctions, les conditions aux limites, les valeurs numériques... Par exemple en math, si l'étudiante doit dériver $f(x) = 2x \cos(x)$, lui faire dériver $g(x) = 5x \sin(x)$.
- Quand tu as expliqué quelque chose, demande à l'étudiante de réexpliquer ce que tu viens de faire.
- Se taire quand elle ont redémarré pour la laisser faire.

Qu'est-ce qu'un étudiant référent d'un brevet ? La réponse est dans la vidéo 085 disponible sur

<http://umotion.univ-lemans.fr/videos/?tag=085>.

Regarde-la, puis évalue son intérêt en entourant son numéro à la dernière page du poly si elle est intéressante, ou en la barrant si elle n'est pas intéressante.

2.3 Modalités d'évaluation des capacités.

Deux modalités d'évaluations des capacités sont proposées au choix de chaque étudiante :

- évaluation par un examen le jour J,
- évaluation par ceintures : demande de sujet de ceintures, rédaction individuelle de réponse en travail à la maison, rendu de copie, test d'antidopage par jet de dé, accès aux ceintures chaînées suivantes en cas de réussite suffisante.

Le choix de votre méthode d'évaluation se fait au cours de la première séance. Une fois le choix faits, vous ne pouvez plus le modifier.

L'évaluation est faite par la validation de capacités. Le chaînage des capacités testées est indiqué figure 2.2.1. Un taux de réussite t_i est associé à chaque capacité i . Ce taux de réussite est le produit, et non la somme, de 5 taux de réussites décrits ci-dessous.

2.3.1 Évaluation par examen individuel

Si vous optez pour une évaluation par un examen classique de 1h15 à 1h30 officiellement (mais vous pourrez rester plus longtemps dans la salle), des sujets d'examens des années précédentes sont à votre disposition sur demande à l'enseignant.

<http://umtice.univ-lemans.fr/course/view.php?id=403>.

L'examen comportera 4 questions, chacune testant une capacité :

- si tu détiens les deux prérequis, les capacités testées sont jaune, orange, verte, bleue (tu peux valider 20 points),
- si tu ne détiens aucun des deux prérequis, les capacités testées sont rouge, blanche, jaune, orange (tu ne peux donc valider que 10 points),
- si tu ne détiens pas l'un des deux prérequis, les capacités testées sont le prérequis non détenu, jaune, orange et verte (tu ne peux donc valider que 15 points).

L'examen comportera 5 questions, chacune testant une capacité (blanche, jaune, orange, verte, bleue). L'examen comportera 4 questions, chacune testant une capacité (jaune, orange, bleue et verte). Des séances non obligatoires de tentatives de validation de capacités, vous seront proposées avant la date de l'examen. Vous êtes libre de venir ou pas. Si le jour de l'examen,

- vous avez validé blanche, jaune et orange, votre examen comportera 2 questions : bleue et verte.
- vous n'avez pas validé la capacité prérequis (blanche), votre examen comportera 4 questions (blanche, jaune, orange, bleue) : vous êtes donc noté sur 16 points.

sdpd

Comment se passe l'examen final ? Quelles sont les différences entre la procédure des années précédentes et celle de 2024 ? La réponse est dans la vidéo 558 disponible sur

<http://umotion.univ-lemans.fr/videos/?tag=558>.

Regarde-la, puis évalue son intérêt en entourant son numéro à la dernière page du poly si elle est intéressante, ou en la barrant si elle n'est pas intéressante.

2.3.2 Évaluation par ceinture individuelle

Une tentative de ceintures est associée à un taux de réussite t_i est calculé à partir du produit de 5 valeurs

$$t_i = t_m t_r t_h t_u t_e \quad (2.1)$$

telles que présentées dans le tableau figure 2.2

En fonction de t_i l'accès aux capacités chaînées suivantes est ou non possible.

- Si $t_i \geq 0.75$, la capacité est acquise, vous ne pouvez pas la refaire pour améliorer votre score à cette capacité, vous accédez aux capacités chaînées suivantes.

Modèle : \$t_m\$	2,5
la méthode est parfaite	1
il y a une imprécision ou erreur dans la méthode	0,8
il y des erreurs dans la méthode	0,5
la méthode n'est absolument pas maîtrisée	0,2
résultat : \$t_r\$	3,3
les résultats finaux sont corrects	1
l'un des résultats finaux présente un écart inférieur à 10\% par rapport à la valeur correcte	0,8
l'un des résultats présente un écart supérieur à 10\% par rapport à la valeur correcte et cette erreur est due à une erreur précédente	0,7
Le résultat final n'est pas quantifié	0,6
l'un des résultats présente un écart supérieur à 10\% par rapport à la valeur correcte	0,2
Du calme sur les décimales !	
homogénéité : \$t_h\$	1,5
je n'ai détecté aucune erreur d'homogénéité	1
J'ai détecté au moins une erreur d'homogénéité	0,5
unités : \$t_u\$	2,3
tous les résultats numériques finaux et intermédiaires sont suivis par des unités	1
tous les résultats numériques finaux sont suivis par des unités mais pas des résultats intermédiaires	0,8
un des résultats final n'est pas suivi par des unités	0,5
plusieurs des résultats numériques finaux et intermédiaires ne sont pas suivi par des unités	0
écriture : \$t_e\$	1,5
(tous les torseurs précisent le point et les axes) et (tous les vecteurs ou pseudo-vecteurs sont notés avec des flèches) et (tous les tenseurs sont notés avec des doubles barres)	1
(soit un des torseurs ne précise pas le point et les axes, soit, un des vecteurs ou pseudo-vecteurs est noté sans flèches , soit , un tenseurs n'est pas notés avec des doubles barres	0,5

Figure 2.2: Grille critériée des cinq critères d'évaluation des capacités.

- Si $0.75 > t_i \geq 0.50$, la capacité n'est pas acquise, vous pouvez tenter pendant une séance d'enseignement un "bon-sang-mais-c'est-bien-sûr" pour améliorer t_i . Vous expliquez oralement en moins de 3 minutes à l'évaluateur ou l'évaluatrice, "votre erreur", "ce qu'il fallait faire" et "les conséquences dans la suite de la copie", s'il ou elle est convaincu-e que vous avez bien compris votre erreur, il ou elle pourra alors augmenter t_i au delà de 0.749. En cas d'échec, vous devez recomposer sur la tentative suivante de cette capacité.
- Si $0.5 > t_i$, la capacité n'est pas acquise, vous devez faire la tentative suivante de cette capacité.

Vous pouvez tenter d'obtenir une capacité lorsque vous vous sentez prête à le faire. Vous ne pouvez tenter qu'une capacité à la fois. Vous pouvez tenter une capacité au maximum 3 fois. Si au bout de 3 tentatives, vous ne la détenez pas, vous pouvez tenter la ou les capacités $n + 1$ suivantes. L'obtention d'une capacité de niveau $n + 1$ vous attribue alors la capacité de niveaux $n + 1$ et la capacité n , mais cette dernière avec un t_i de 0.75.

Le passage d'une ceinture en autonomie et le jet de dé antidopage, se fait à votre rythme, jusqu'au 11 avril 2025 12:00.

- Vous adressez à jean-michel.genevaux@univ-lemans.fr un courriel dont le titre est "sdpd, couleur, numéro de tentative".
- L'enseignant vous envoie le sujet et la feuille de composition.
- Sur cette copie, à côté de la déclaration suivante : *"Je m'engage sur l'honneur à n'évoquer avec personne le contenu du sujet de passage de cette ceinture. Cependant, dans le cas où je ne réussis pas à l'obtenir, j'ai compris pouvoir discuter de mon travail avec les étudiantes ayant acquis cette ceinture. Si l'enseignant à la preuve que je n'ai pas respecté mon engagement (j'ai admis le non-respect, je suis incapable de refaire la ceinture en mode surveillé...), un rapport de fraude est fait par l'enseignant et transmis au directeur de l'école qui transmet à la commission de discipline de l'université. L'enseignant y demandera que je ne puisse plus passer de ceintures en autonomie."*, vous écrivez "lu et approuvé" et vous signez. Cela permet à vos camarades de faire une mesure "libre et non faussée" de leurs savoirs scientifiques et non de leur "capacité de mémorisation"... ou de (risquée) recopie.
- Vous composez de façon individuelle en dehors des séances d'enseignement.
- Vous photographiez le sujet et votre réponse, construisez un seul document pdf comportant les images dans cet ordre. Vous nommez votre pdf "couleur numéro-de-tentative prénom nom.pdf", et le déposez sur la page umtice de rendu de ceintures :

<https://umtice.univ-lemans.fr/course/view.php?id=10221>

Veillez à le déposer dans la bonne rubrique cours-couleur : cela classe les ceintures et permet à l'enseignant de corriger en rafale les mêmes ceintures et donc de vous donner un feedback plus rapide. Une copie déposée dans une mauvaise rubrique ne sera pas corrigée. Une copie qui ne respecte pas le nom "couleur numéro-de-tentative prénom nom.pdf" ne sera pas corrigée.

- L'enseignant ou l'enseignante, via la plateforme moodle vous donne accès à votre copie sur laquelle il ou elle a entouré les erreurs détectées et vous transmet les 5 taux (t_m, t_r, t_h, t_u, t_e).
- Pour que les points obtenus soient effectifs, vous devez faire le test d'antidopage à la séance suivante. Vous lancez un dé à 6 faces, si vous faites un chiffre différent de ceux indiqués à la couleur de capacité, votre copie est considérée comme faite par vos soins. Si vous faites l'un des chiffres associés à cette capacité, l'enseignant vous redonne le sujet et vous refaites une copie en mode surveillé. Tant que l'antidopage n'a pas été fait, les points ne sont pas associés à votre réussite de capacité.

Des ceinture ? Des quoi ? La réponse est dans la vidéo 540 disponible sur <http://umotion.univ-lemans.fr/videos/?tag=540>.

Regarde-la, puis évalue son intérêt en entourant son numéro à la dernière page du poly si elle est intéressante, ou en la barrant si elle n'est pas intéressante.

Pourriez-vous nous renseigner sur l'utilisation de WXMaxima ? Et nous préciser si on peut l'utiliser dans le cadre des ceintures. La réponse est dans la vidéo 306 disponible sur <http://umotion.univ-lemans.fr/videos/?tag=306>.

Regarde-la, puis évalue son intérêt en entourant son numéro à la dernière page du poly si elle est intéressante, ou en la barrant si elle n'est pas intéressante.

Comment récupère-t-on les ceintures échouées et corrigées ? La réponse est dans la vidéo 288 disponible sur <http://umotion.univ-lemans.fr/videos/?tag=288>.

Regarde-la, puis évalue son intérêt en entourant son numéro à la dernière page du poly si elle est intéressante, ou en la barrant si elle n'est pas intéressante.

Après la dernière séance, où pourra-t-on jeter les dés ? La réponse est dans la vidéo 503 disponible sur <http://umotion.univ-lemans.fr/videos/?tag=503>.

Regarde-la, puis évalue son intérêt.

Y a-t-il une nouvelle date limite de rendu de ceinture ? La réponse est dans la vidéo 548 disponible sur <http://umotion.univ-lemans.fr/videos/?tag=548>.

Regarde-la, puis évalue son intérêt.

Est-ce que la difficulté de la ceinture blanche est la même que les ceintures individuelles si on choisit la méthode crabe ? La réponse est dans la vidéo 549 disponible sur <http://umotion.univ-lemans.fr/videos/?tag=549>.

Regarde-la, puis évalue son intérêt.

Vos validations/échecs aux capacités vous seront transmises par courriel via la plateforme moodle. La validation déblocuera le sujet des capacités chaînées suivantes, la non-validation, le sujet de la tentative suivante.

Quelle est la cause de la mention "bof", pour la capacité "homogénéité des équations" ? La réponse est dans la vidéo 272 disponible sur <http://umotion.univ-lemans.fr/videos/?tag=272>.

Regarde-la, puis évalue son intérêt en entourant son numéro à la dernière page du poly si elle est intéressante, ou en la barrant si elle n'est pas intéressante.

Pour la formation à l'Ensim, si on échoue 3 fois à la compétence orange, et que l'on valide la compétence bleue, cela valide-t-il la compétence orange et donc on récupère les points de celle-ci ? La réponse est dans la vidéo 290 disponible sur <http://umotion.univ-lemans.fr/videos/?tag=290>.

Regarde-la, puis évalue son intérêt en entourant son numéro à la dernière page du poly si elle est intéressante, ou en la barrant si elle n'est pas intéressante.

Comment récupère-t-on les ceintures échouées et corrigées ? La réponse est dans la vidéo 288 disponible sur <http://umotion.univ-lemans.fr/videos/?tag=288>.

Regarde-la, puis évalue son intérêt en entourant son numéro à la dernière page du poly si elle est intéressante, ou en la barrant si elle n'est pas intéressante.

Être détenteur d'une capacité, implique qu'en tant qu'expert de celle-ci, tout comme l'enseignant, vous aidiez vos camarades à l'obtenir. Votre dialogue doit porter sur un exemple similaire proposé par le demandeur d'aide. Il ne doit pas porter sur l'exemple qu'il a à résoudre. Vous l'orientez sur les brevets afférents, en répondant à leur questions sur ces brevets, en insistant sur des points qui vous ont éventuellement fait rater cette capacité dans des tentatives précédentes. Vous ne dévoilez pas le contenu du sujet de la capacité ni les réponses.

"C'est arrivé près de chez vous" : L'exemple d'étudiants qui "travaillent à 3 pour résoudre

un sujet de capacité, recopie chacun sur une feuille la réponse qu'ils ont élaborée collectivement, rendent le même jour à la même heure leur feuilles en espérant ne pas faire 6", ne respectent pas les règles. En cas de détection par l'enseignant, le passage par ceintures est arrêté pour eux et dans le reste de leur scolarité, ils feront des examens dans les modules à venir.

2.4 Absence

Le conseil d'administration a voté l'obligation d'être présent aux séances d'enseignement.

Il me semble plus pertinent que l'obtention des capacités de base soit obligatoire pour justifier les 14 000 euros par an que la nation verse pour vous former grâce aux impôts récoltés en France. Via la TVA, vous-même, payez des impôts.

Ne pas venir à une séance de 1h1/4, représente donc un gaspillage de 23 euros... sauf si vous travaillez à la maison et que vous atteignez les capacités de base.

Pour concrétiser ceci auprès des étudiantes non alternants, la méthode suivante est utilisée :

- en début de séance, une feuille d'émargement circule : le nombre de signatures doit correspondre au nombre de présents,
- l'enseignant compte le nombre d'absences de chaque étudiante,
- le jour du jury, les capacités acquises par chaque étudiante sont figées,
- pour une étudiante qui a été détectée absente et qui a les capacités de base (qui donnent une note supérieure à 10/20), elle a rempli son contrat... et je lui souhaite une agréable suite de formation.
- pour une étudiante qui a été détectée absente, mais qui n'a pas les capacités de base, elle est considérée comme n'ayant pas rempli son contrat. Pour rembourser les contribuables,... choisissons les contribuables étudiantes, je lui demande de verser 23 euros par absence à la cafétéria de l'Ensim ou de l'UFR , ce qui permettra que la cafétéria offre gratuitement, par absence remboursée, 57 cafés ou 19 café+viennoiserie à qui le demande (dont l'étudiante absente).

Je ne citerai que Bernard Friot : "C'est le salaire qui mérite travail.", France Culture, mardi 4 avril 2023, 7h40, <https://www.radiofrance.fr/franceculture/podcasts/les-matins>

Je m'étonne que vous osiez demander de l'argent à un étudiant, par un chèque de 23 euros !
La réponse est dans la vidéo 256 disponible sur
<http://umotion.univ-lemans.fr/videos/?tag=256>.
Regarde-la, puis évalue son intérêt.

Formation à la capacité rouge de mathématiques.

Chapter 3

Le changement de base et son influence sur l'expression des composantes d'un vecteur

3.1 Extrait de cours de mathématiques de L3

Les documents ci-dessous sont extraits des diapositives d'enseignement d'algèbre linéaire, créées par F. Al Reda et A. Popier.

RÉDUCTION DES MATRICES SYMÉTRIQUES

THÉORÈME

Soit A une matrice symétrique réelle. Les valeurs propres de A sont toutes réelles et A se diagonalise dans une base orthonormée, c'est-à-dire qu'il existe une matrice orthogonale P et une matrice diagonale D telles que $A = PD^tP$, les coefficients diagonaux de D étant les valeurs propres dans \mathbb{R} de A .

COROLLAIRE

Une matrice symétrique réelle est définie positive (resp. positive) si, et seulement si, toutes ses valeurs propres sont strictement positives (resp. positives).

Figure 3.1: Extrait du cours d'algèbre linéaire de L3, dispensé par F. Al Reda et A. Popier.

EN DIMENSION 3 :

- Cas 1 : rotation autour d'un axe :

$$\begin{pmatrix} 1 & 0 & 0 \\ 0 & \cos(\theta) & -\sin(\theta) \\ 0 & \sin(\theta) & \cos(\theta) \end{pmatrix}$$

- Cas 2 : symétrie par rapport à un plan :

$$\begin{pmatrix} -1 & 0 & 0 \\ 0 & 1 & 0 \\ 0 & 0 & 1 \end{pmatrix}$$

- Cas 3 : symétrie et rotation :

$$\begin{pmatrix} -1 & 0 & 0 \\ 0 & \cos(\theta) & -\sin(\theta) \\ 0 & \sin(\theta) & \cos(\theta) \end{pmatrix}$$

Figure 3.2: Extrait du cours d'algèbre linéaire de L3, dispensé par F. Al Reda et A. Popier.

THÉORÈME

Si $n = 2$ (E est un plan euclidien) et si $u \in \mathcal{O}(E)$, alors il existe une base orthonormée de E dans laquelle la matrice de u est soit du type $\begin{pmatrix} \cos(\theta) & -\sin(\theta) \\ \sin(\theta) & \cos(\theta) \end{pmatrix}$, soit du type $\begin{pmatrix} 1 & 0 \\ 0 & -1 \end{pmatrix}$.

EN PRATIQUE :

- Cas 1 = rotation d'angle θ de centre O_E .
- Cas 2 = symétrie axiale.

Figure 3.3: Extrait du cours d'algèbre linéaire de L3, dispensé par F. Al Reda et A. Popier.

3.2 Quelques exercices

brevet 236 : Changement de base par rotation

auteur : S. Al Reda et A. Popier ; ressource : cours L3 algèbre linéaire .

Soient deux bases orthonormées, $(\vec{i}, \vec{j}, \vec{k})$ et $(\vec{u}, \vec{v}, \vec{w})$, telles que la seconde base est obtenue une rotation d'un angle de 10 degrés autour de l'axe \vec{j} .

Donnez les relations liant

- les vecteurs $\vec{u}, \vec{v}, \vec{w}$ en fonction des vecteurs $\vec{i}, \vec{j}, \vec{k}$,
- les vecteurs $\vec{i}, \vec{j}, \vec{k}$ en fonction des vecteurs $\vec{u}, \vec{v}, \vec{w}$.

brevet 210 : Produit vectoriel

auteur : JM Génevaux ; ressource : cours L3 algèbre linéaire .

Soit dans une base directe orthonormée $(\vec{x}, \vec{y}, \vec{z})$, les deux vecteurs $\vec{a} = 3\vec{x} + 5\vec{y}$ et $\vec{b} = 4\vec{y} + 5\vec{z}$.

Calculez $\vec{c} = \vec{a} \wedge \vec{b}$

brevet 225 : Produit scalaire

auteur : JM Génevaux ; ressource : cours L3 algèbre linéaire .

Soit dans une base directe orthonormée $(\vec{x}, \vec{y}, \vec{z})$, les deux vecteurs $\vec{a} = 3\vec{x} + 5\vec{y}$ et $\vec{b} = 4\vec{y} + 5\vec{z}$.

Calculez le produit scalaire de ces deux vecteurs : $c = \vec{a} \cdot \vec{b}$

brevet 226 : Changement de base par rotation

auteur : JM Génevaux ; ressource : cours L3 algèbre linéaire .

Soit dans une base directe orthonormée $(\vec{x}, \vec{y}, \vec{z})$, le vecteur $\vec{a} = 3\vec{x} + 5\vec{y}$ [cm]. Soit une autre base $(\vec{x}_1, \vec{y}_1, \vec{z}_1)$ image de $(\vec{x}, \vec{y}, \vec{z})$ par une rotation autour de l'axe \vec{z} d'un angle $\pi/3$.

Quelles sont les nouvelles coordonnées de : \vec{a} dans la base $(\vec{x}_1, \vec{y}_1, \vec{z}_1)$?

brevet 237 : Changement des composantes d'un vecteur lors d'un changement de base.

auteur : JM Génevaux ; ressource : cours L3 algèbre linéaire .

Soit le vecteur $\vec{e} = 0.2\vec{i} + 0.4\vec{j} - 1.2\vec{k}$ [m] avec $(\vec{i}, \vec{j}, \vec{k})$ une base orthonormée directe. Soit une seconde base orthonormée directe $(\vec{x}, \vec{y}, \vec{z})$ telle que elle soit obtenue à partir de la base $(\vec{i}, \vec{j}, \vec{k})$ par une rotation autour de \vec{j} d'un angle $-\pi/6$.

Quelles sont les composantes de \vec{e} dans la base $(\vec{x}, \vec{y}, \vec{z})$?

Formation à la capacité blanche de mécanique des solides indéformable.

Chapter 4

Le torseur, les torseurs de chargement et les torseurs transmissibles par une liaison parfaite

4.1 Le torseur, un outil franco-français

Si vous êtes allergique à l'utilisation de torseurs, malgré leur efficacité en mécanique générale, vous pouvez ne pas les utiliser dans ce cours. Dans ce cas, vous pouvez continuer la lecture **en portant une attention particulière à ce qui est écrit en rouge, et qui vous est tout particulièrement dédié. Vous veillerez toujours à écrire deux grandeurs : rotation et déplacement, ou force et moment. Vous préciserez pour le déplacement de quel point vous parlez et par rapport à quel repère, pour le moment en quel point vous le calculez et par rapport à quel repère.**

4.1.1 Torseur en un point

Si les anglo-saxons manient les mêmes grandeurs

- force et moment pour une action extérieure,
- vitesse de rotation et vitesse de translation pour décrire la cinématique d'un solide,
- la masse multipliée par l'accélération de translation et le moment dynamique,

ils n'ont pas comme usage de regrouper ces grandeurs dans un seul et même objet que nous appellerons *torseur*.

Un torseur τ est un regroupement entre une grandeur vectorielle et une grandeur pseudo-vectorielle, ce torseur étant exprimé en un point A . Si l'on souhaite changer de point où ce torseur est exprimé :

- si \vec{a} est un vecteur et \check{b} est un pseudo vecteur exprimés en un point A (cas des torseur d'inter-effort, torseur dynamique)

$$\{\tau\} = \left\{ \begin{array}{c} \vec{a} \\ \check{b}_A \end{array} \right\}_A = \left\{ \begin{array}{c} \vec{a} \\ \check{b}_B \end{array} \right\}_B = \left\{ \begin{array}{c} \vec{a} \\ \check{b}_A + \vec{a} \wedge \vec{AB} \end{array} \right\}_B \quad (4.1)$$

- Si \check{a} est un pseudo-vecteur et \vec{b} est un vecteur exprimés en un point A (torseur de position,

torseur de déplacement, torseur cinématique)

$$\{\tau\} = \left\{ \begin{array}{c} \check{a} \\ \vec{b}_A \end{array} \right\}_A = \left\{ \begin{array}{c} \check{a} \\ \vec{b}_B \end{array} \right\}_B = \left\{ \begin{array}{c} \check{a} \\ \vec{b}_A + \check{a} \wedge \vec{AB} \end{array} \right\}_B \quad (4.2)$$

Deux notations peuvent être utilisées. L'important est que la notation choisie soit complète : que la base soit identifiée et que le point où est exprimé ce torseur aussi.

$$\{\tau\} = \left\{ \begin{array}{c} \check{a} \\ \vec{b}_A \end{array} \right\}_A = \left\{ \begin{array}{c} a_1 \check{i} + a_2 \check{j} + a_3 \check{k} \\ b_1 \vec{i} + b_2 \vec{j} + b_3 \vec{k} \end{array} \right\}_A = \left\{ \begin{array}{c|c} a_1 & b_1 \\ a_2 & b_2 \\ a_3 & b_3 \end{array} \right\}_{(A, \vec{i}, \vec{j}, \vec{k})} \quad (4.3)$$

On notera dans la dernière écriture l'impossibilité de différentier vecteur et pseudo-vecteur. Cette notation pourra être néanmoins utilisée dans le cadre de ce cours.

Qu'est-ce que le moment d'une force ?

La réponse est dans la vidéo 241 disponible sur <http://umotion.univ-lemans.fr/search/?q=241>. Regarde-la, puis évalue son intérêt en entourant son numéro à la dernière page du poly si elle est intéressante, ou en la barrant si elle n'est pas intéressante.

Un torseur a une résultante et un moment... comment les utiliser ?

La réponse est dans la vidéo 250 disponible sur <http://umotion.univ-lemans.fr/search/?q=250>. Regarde-la, puis évalue son intérêt en entourant son numéro à la dernière page du poly si elle est intéressante, ou en la barrant si elle n'est pas intéressante.

C'est quoi un pseudo-vecteur ?

La réponse est dans la vidéo 251 disponible sur <http://umotion.univ-lemans.fr/search/?q=251>. Regarde-la, puis évalue son intérêt en entourant son numéro à la dernière page du poly si elle est intéressante, ou en la barrant si elle n'est pas intéressante.

Les pseudo-vecteurs représentent-ils forcément des rotations ?

La réponse est dans la vidéo 557 disponible sur <http://umotion.univ-lemans.fr/search/?q=557>. Regarde-la, puis évalue son intérêt en entourant son numéro à la dernière page du poly si elle est intéressante, ou en la barrant si elle n'est pas intéressante.



Pour vérifier que vous avez assimilé ce paragraphe, je vous invite à obtenir les brevets 028 et 033 et 031. Si vous avez des difficultés, je vous invite à vous appuyer sur le "coup de pouce" qui décrit la démarche théorique à suivre, mais aussi à contacter le référent du brevet.

brevet 028 : Deux écritures de torseur

auteur : JM Génevaux ; ressource : [?] .

Soit le torseur de déplacement au point A qui est composé par une translation $0.12\vec{j}$ [m] et d'une rotation $0.045\check{k}$, et un torseur de chargement composé d'une force $34\vec{k}$ [N] et d'un couple $-78\check{i}$ [N.m].

Écrire chacun de ces deux torseurs avec deux notations : verticale (méthode Catherine Potel) et horizontale (méthode Jean-Michel Génevaux).

brevet 033 : formule de changement de point.
auteur : JM Génevaux ; ressource : [?] ; autoattribution .

Soient, dans la base orthonomée directe $(\vec{i}, \vec{j}, \vec{k})$, les points O,A,B tels que $\vec{OA} = 3\vec{i} + 2\vec{k}$, $\vec{OB} = 5\vec{i} - 2\vec{j}$. Soit le torseur,

$$\{\tau\} = \left\{ \begin{array}{c} 4\vec{k} - 5\vec{j} \\ 2\vec{i} \end{array} \right\}_A \quad (4.4)$$

Quelle est l'expression de ce torseur lorsqu'il est exprimé en B ?

brevet 031 : torseur de déplacement d'un solide, formule de changement de point d'un torseur

auteur : JM Génevaux ; ressource : [?], Autoattribution .

Soient trois points A,B,C dans l'espace affine de base $(\vec{i}, \vec{j}, \vec{k})$, tels que $\vec{AB} = 12\vec{i}$ m et $\vec{BC} = 3\vec{j} - 6\vec{k}$ m. Soit un solide indéformable reliant les points A,B et C. Si le point A subit une translation $4\vec{j} - 4\vec{k}$ m et une rotation $2\vec{i}$ rad, quel est le torseur de déplacement de ce solide exprimée au point C ?

4.1.2 Torseur linéique en un point

Parfois un torseur linéique est appliqué en tout point P d'abscisse s d'un tronçon de longueur ds d'une poutre de longueur l entre les points A et B. Il sera noté dans ce cas

$$\{\tau\} = \int_A^B \left\{ \begin{array}{c} \vec{p}(s)ds \\ \check{c}(s)ds \end{array} \right\}_P = \int_A^B \left\{ \begin{array}{c} \vec{p}(s)ds \\ \check{c}(s)ds + \vec{p}(s)ds \wedge \vec{PC} \end{array} \right\}_C = \left\{ \begin{array}{c} \int_A^B \vec{p}(s)ds \\ \int_A^B (\check{c}(s) + \vec{p}(s) \wedge \vec{PC})ds \end{array} \right\}_C \quad (4.5)$$

Attention dans la dernière égalité ci-dessus d'avoir exprimé \vec{p} et \check{c} dans une base fixe qui ne dépend pas de l'abscisse curviligne.

Pour les allergiques : Si vous calculez le moment d'une force en un point B, alors que la force et un moment sont appliqués en un point A, il vous faudra écrire : $\check{M}_B = \check{M}_A + \vec{F} \wedge \vec{AB}$. De même si vous calculez un déplacement en un point B dû à un déplacement et une rotation en un point A, vous écrirez : $\vec{u}_B = \vec{u}_A + \check{\omega} \wedge \vec{AB}$.

• **Erreur classique :** Il ne faut pas oublier de préciser, pour tout torseur, en quel point il est exprimé.

4.2 Torseurs de chargement

Dans ce cours, la résultante sera notée \vec{F} , le moment sera noté \check{C} . Les différents torseurs de chargements sont :

- force concentrée au point A de direction \vec{i}

$$\{\tau_1\} = \left\{ \begin{array}{c} F\vec{i} \\ \check{0} \end{array} \right\}_A \quad (4.6)$$

- couple concentré au point A autour de l'axe \vec{i}

$$\{\tau_2\} = \left\{ \begin{array}{c} \check{0} \\ C\vec{i} \end{array} \right\}_A \quad (4.7)$$

- densité linéique de force $p\vec{i}$ sur un segment de longueur ds au point P

$$\{d\tau_3\} = \left\{ \begin{array}{c} p\vec{i}ds \\ \vec{0} \end{array} \right\}_P, \quad (4.8)$$

- densité linéique de couple $c\check{i}$ sur un segment de longueur ds au point P

$$\{d\tau_4\} = \left\{ \begin{array}{c} \vec{0} \\ c\check{i}ds \end{array} \right\}_P, \quad (4.9)$$

- torseur équivalent exprimé au point C, d'un chargement linéique sur un segment AB :

$$\{\tau_5\} = \int_A^B \left\{ \begin{array}{c} \vec{p}ds \\ \check{c}ds \end{array} \right\}_P = \int_A^B \left\{ \begin{array}{c} \vec{p}ds \\ \check{c}ds + \vec{p}ds \wedge \vec{PC} \end{array} \right\}_C = \left\{ \begin{array}{c} \int_A^B \vec{p}ds \\ \int_A^B (\check{c} + \vec{p} \wedge \vec{PC})ds \end{array} \right\}_C. \quad (4.10)$$

Attention dans la dernière égalité ci-dessus d'avoir exprimé \vec{p} et \check{c} dans une base fixe qui ne dépend pas de l'abscisse curviligne.

Comment calculer la somme de charges réparties ? La réponse est dans la vidéo 252 disponible sur <http://umotion.univ-lemans.fr/search/?q=252>. Regarde-la, puis évalue son intérêt en entourant son numéro à la dernière page du poly si elle est intéressante, ou en la barrant si elle n'est pas intéressante.



Pour vérifier que vous avez assimilé ce paragraphe, je vous invite à obtenir les brevets 039 et 090. Si vous avez des difficultés, je vous invite à contacter le référent du brevet correspondant.

brevet 039 : Chargement réparti de couples
auteur : JM Génevaux ; ressource : cours techno-mécanique ;
autoattribution .

Soit une poutre droite AB de longueur $l = 2$ m d'axe \vec{i} , soumise tout son long à une répartition de couples par unité de longueur $\check{c} = 0.1\check{j}$ en Nm/m.

Donnez l'expression de son torseur équivalent au point B.

brevet 090 : Réalisation expérimentale de liaisons et de chargements
auteurs : JM Génevaux ; ressource : [?], paragraphe .

Le problème est plan. Soit une poutre reliant les points A, B, qui ont comme coordonnées respectivement (0,0,0) et (l,0,0) dans un repère orthonormé direct $(\vec{i}, \vec{j}, \vec{k})$. Le point A est encastré, le point B chargé par une force $-F\vec{j}$ (avec $F > 0$).

Réalisez ce système à l'aide d'un spaghetti, deux parallélépipèdes et votre doigt.

4.3 Liaisons parfaites normalisée - torseur des efforts transmissibles

Dans ce cours, la résultante du torseur des efforts transmissibles sera notée \vec{R} , le moment, qui est un pseudo-vecteur, sera noté \check{M} .

Pourquoi parle-t-on de pseudo-vecteur, pour l'un des termes du torseur ? La réponse est dans la vidéo 002 disponible sur <http://umotion.univ-lemans.fr/search/?q=002>. Regarde-la, puis évalue son intérêt en entourant son numéro à la dernière page du poly si elle est intéressante, ou en la barrant si elle n'est pas intéressante.

Les couples sont représentés par des pseudo-vecteurs car ils n'obéissent pas aux mêmes règles en cas de plan de symétrie. La figure est peu claire pour le comprendre. La réponse est dans la vidéo 019 disponible sur <http://umotion.univ-lemans.fr/search/?q=019>. Regarde-la, puis évalue son intérêt en entourant son numéro à la dernière page du poly si elle est intéressante, ou en la barrant si elle n'est pas intéressante.

La liaison étant considérée parfaite, la puissance développée dans cette liaison doit être nulle quels que soient les déplacements et rotations éventuels possibles. Ceci implique que le travail d'une liaison soit nul. Il est calculé par le *comoment* des deux vecteurs :

$$\left\{ \begin{array}{c} \check{\omega} \\ \vec{u}_A \end{array} \right\}_A \otimes \left\{ \begin{array}{c} \vec{R} \\ \check{M}_A \end{array} \right\}_A = 0, \quad (4.11)$$

qui se développe en

$$\check{\omega} \cdot \check{M}_A + \vec{u}_A \cdot \vec{R} = 0. \quad (4.12)$$

Ci-dessous, sont donnés les torseurs d'efforts transmissibles. On peut les retrouver à partir des formules ci-dessus, en écrivant pour la liaison choisie le torseur cinématique associé (mouvements de translation et de rotation autorisés par la liaison), puis choisir un torseur d'inter-effort qui a priori toutes les composantes en résultante et en moment, et écrire que le comoment est nul quelle que soit l'amplitude des mouvements possibles.

Comment trouve-t-on les termes non nuls des liaisons d'inter-effort ? La réponse est dans la vidéo 222 disponible sur <http://umotion.univ-lemans.fr/search/?q=222>. Regarde-la, puis évalue son intérêt en entourant son numéro à la dernière page du poly si elle est intéressante, ou en la barrant si elle n'est pas intéressante.

Que signifie le fait que la puissance développée est nulle pour une liaison parfaite ? La réponse est dans la vidéo 091 disponible sur <http://umotion.univ-lemans.fr/search/?q=091>. Regarde-la, puis évalue son intérêt en cochant une case à la dernière page du poly copié.

Qu'est-ce que le principe des travaux virtuels ? La réponse est dans la vidéo 238 disponible sur <http://umotion.univ-lemans.fr/search/?q=238>. Regarde-la, puis évalue son intérêt en entourant son numéro à la dernière page du poly si elle est intéressante, ou en la barrant si elle n'est pas intéressante.

Les liaisons associées à un problème tridimensionnel sont normalisées. La symbolique est donc la même que celle que vous utilisez pendant la formation de Technologie-Mécanique. Utilisez les dessins associés !

- liaison tridimensionnelle encastrement : $\{\tau\}_A = \left\{ \begin{array}{c} R_i \vec{i} + R_j \vec{j} + R_k \vec{k} \\ C_i \check{i} + C_j \check{j} + C_k \check{k} \end{array} \right\}_A$,

- liaison tridimensionnelle pivot d'axe $A\vec{i}$: $\{\tau\}_A = \left\{ \begin{array}{c} R_i\vec{i} + R_j\vec{j} + R_k\vec{k} \\ C_j\vec{j} + C_k\vec{k} \end{array} \right\}_A$,
- liaison tridimensionnelle glissière d'axe $A\vec{i}$: $\{\tau\}_A = \left\{ \begin{array}{c} R_j\vec{j} + R_k\vec{k} \\ C_i\vec{i} + C_j\vec{j} + C_k\vec{k} \end{array} \right\}_A$,
- liaison tridimensionnelle hélicoïdale d'axe $A\vec{i}$ de pas p : $\{\tau\}_A = \left\{ \begin{array}{c} -\frac{2\pi C_i}{p}\vec{i} + R_j\vec{j} + R_k\vec{k} \\ C_i\vec{i} + C_j\vec{j} + C_k\vec{k} \end{array} \right\}_A$,
- liaison tridimensionnelle pivot glissant d'axe $A\vec{i}$: $\{\tau\}_A = \left\{ \begin{array}{c} R_j\vec{j} + R_k\vec{k} \\ C_j\vec{j} + C_k\vec{k} \end{array} \right\}_A$,
- liaison tridimensionnelle sphérique à doigt d'axe $A\vec{i}$ et $A\vec{j}$: $\{\tau\}_A = \left\{ \begin{array}{c} R_i\vec{i} + R_j\vec{j} + R_k\vec{k} \\ C_k\vec{k} \end{array} \right\}_A$,
- liaison tridimensionnelle sphérique en A : $\{\tau\}_A = \left\{ \begin{array}{c} R_i\vec{i} + R_j\vec{j} + R_k\vec{k} \\ \vec{0} \end{array} \right\}_A$,
- liaison tridimensionnelle appui plan de normale $A\vec{i}$: $\{\tau\}_A = \left\{ \begin{array}{c} R_i\vec{i} \\ C_j\vec{j} + C_k\vec{k} \end{array} \right\}_A$,
- liaison tridimensionnelle linéaire rectiligne de normale $A\vec{j}$ de direction $A\vec{i}$: $\{\tau\}_A = \left\{ \begin{array}{c} R_j\vec{j} \\ C_k\vec{k} \end{array} \right\}_A$,
- liaison tridimensionnelle linéaire annulaire d'axe $A\vec{i}$: $\{\tau\}_A = \left\{ \begin{array}{c} R_j\vec{j} + R_k\vec{k} \\ \vec{0} \end{array} \right\}_A$,
- liaison tridimensionnelle ponctuelle d'axe $A\vec{i}$: $\{\tau\}_A = \left\{ \begin{array}{c} R_i\vec{i} \\ \vec{0} \end{array} \right\}_A$.

Les liaisons associées à un problème bidimensionnel ne sont pas normalisées. Faites attention à la signification de chaque symbole en fonction de l'ouvrage. Pour notre part, la symbolique présentée dans la figure 4.1 sera utilisée. Pour un problème dans le plan (A, \vec{i}, \vec{j}) :

- liaison bidimensionnelle encastrement : $\{\tau\}_A = \left\{ \begin{array}{c} R_i\vec{i} + R_j\vec{j} \\ C_k\vec{k} \end{array} \right\}_A$,
- liaison bidimensionnelle appui simple : $\{\tau\}_A = \left\{ \begin{array}{c} R_i\vec{i} + R_j\vec{j} \\ 0\vec{k} \end{array} \right\}_A$,
- liaison bidimensionnelle appui sur rouleaux de normale $A\vec{j}$: $\{\tau\}_A = \left\{ \begin{array}{c} R_j\vec{j} \\ 0\vec{k} \end{array} \right\}_A$,
- liaison bidimensionnelle glissière d'axe $A\vec{i}$: $\{\tau\}_A = \left\{ \begin{array}{c} R_j\vec{j} \\ C_k\vec{k} \end{array} \right\}_A$.

Les torseurs sont écrits en certains points. A quel moment doit-on effectuer le changement de point et comment le choisir ? La réponse est dans la vidéo 221 disponible sur <http://umotion.univ-lemans.fr/search/?q=221>. Regarde-la, puis évalue son intérêt en entourant son numéro à la dernière page du poly si elle est intéressante, ou en la barrant si elle n'est pas intéressante.



Figure 4.1: La symbolique des liaisons 2d utilisée dans ce cours (non normalisée) de gauche à droite : encastrement 2d, appui simple 2d, appui sur rouleau 2d, glissière 2d. L'axe \vec{i} est horizontal vers la droite, \vec{j} est vertical ascendant et \vec{k} est sortant de la feuille.

- **Erreur classique** : Il ne faut pas, lorsque le problème est bidimensionnel, utiliser les liaisons tridimensionnelles (et inversement).

- **Erreur classique** : Lorsque 2 poutres (ou plus) de directions différentes se raccordent en un point B, il ne faut pas rajouter une liaison encastrement entre ce point B et le référentiel Galiléen : le point B peut se déplacer, tourner... et toutes les poutres aboutissant à ce point B se déplacent et tournent au point B de la même valeur.



Pour vérifier que vous avez assimilé ce paragraphe, je vous invite à obtenir les brevets 037 et 038. Si vous avez des difficultés, je vous invite à contacter le référent du brevet correspondant.

brevet 037 : Torseur transmissible par la liaison bidimensionnelle appuis sur rouleaux
auteur : JM Génevaux ; ressource : cours techno-mécanique ; autoattribution .

Soit pour un problème dans le plan (A, \vec{x}, \vec{y}) , une liaison appuis sur rouleau en un point B de normale \vec{y} .

Si la liaison est parfaite, quel est le torseur des efforts transmissibles ?
 Vous l'exprimerez en B.

brevet 038: Torseur transmissible par la liaison tridimensionnelle hélicoïdale
auteur : JM Génevaux ; ressource : cours techno-mécanique ; autoattribution .

Soit pour un problème dans l'espace $(A, \vec{x}, \vec{y}, \vec{z})$, une liaison hélicoïdale d'axe $B\vec{y}$ de pas p .

Si la liaison est parfaite, quel est le torseur des efforts transmissibles ?
 Vous l'exprimerez en B.

Formation à la capacité jaune de statique des poutres droites.

Chapter 5

De la statique du solide à la statique des poutres

5.1 Équilibre d'un solide

5.1.1 Principe fondamental de la statique et réactions aux liaisons.

L'équilibre d'un solide S1 dans un repère galiléen est

$$\sum \{\tau\} = \{0\}, \quad (5.1)$$

Les torseurs $\{\tau\}$ sont ceux

- de chargement : des forces et/ou couples appliqués en des points précis, ou des chargement répartis sur des lignes ou des surfaces (pression par exemple) ou à distance (pesanteur, champs magnétique...),
- de réaction aux liaisons entre le solide et le monde extérieur.

En général, les chargements sont des données du problème, les réactions aux liaisons sont des inconnues. Les liaisons tridimensionnelles sont normalisées : à chaque liaison, et donc mouvement possible entre deux solides, est associé un torseur de liaison qui a plusieurs composantes, en force et en couples, qui, à part celles qui sont nulles, sont des inconnues.

Résoudre un problème de statique des poutres permet de rechercher les inconnues aux liaisons.

- Si toutes les inconnues aux liaisons sont déterminables en fonction des chargements, le problème est isostatique.
- Si une ou plusieurs inconnues aux liaisons ne sont pas déterminables en fonction des chargements car il reste plus d'inconnues que d'équations indépendantes, le problème est hyperstatique.
- Si sur une équation, il manque des inconnues et la somme n'est pas égale à 0, l'équilibre n'est pas vérifié, le problème est hypostatique.

Qu'est-ce qu'un système isostatique ?

La réponse est dans la vidéo 239 disponible sur <http://umotion.univ-lemans.fr/search/?q=239>. Regarde-la, puis évalue son intérêt en entourant son numéro à la dernière page du poly si elle est intéressante, ou en la barrant si elle n'est pas intéressante.

Je n'ai pas compris comment on détermine le degré d'hyperstatisme ?

La réponse est dans la vidéo 033 disponible sur <http://umotion.univ-lemans.fr/search/?q=033>. Regarde-la, puis évalue son intérêt en entourant son numéro à la dernière page du poly si elle est intéressante, ou en la barrant si elle n'est pas intéressante.

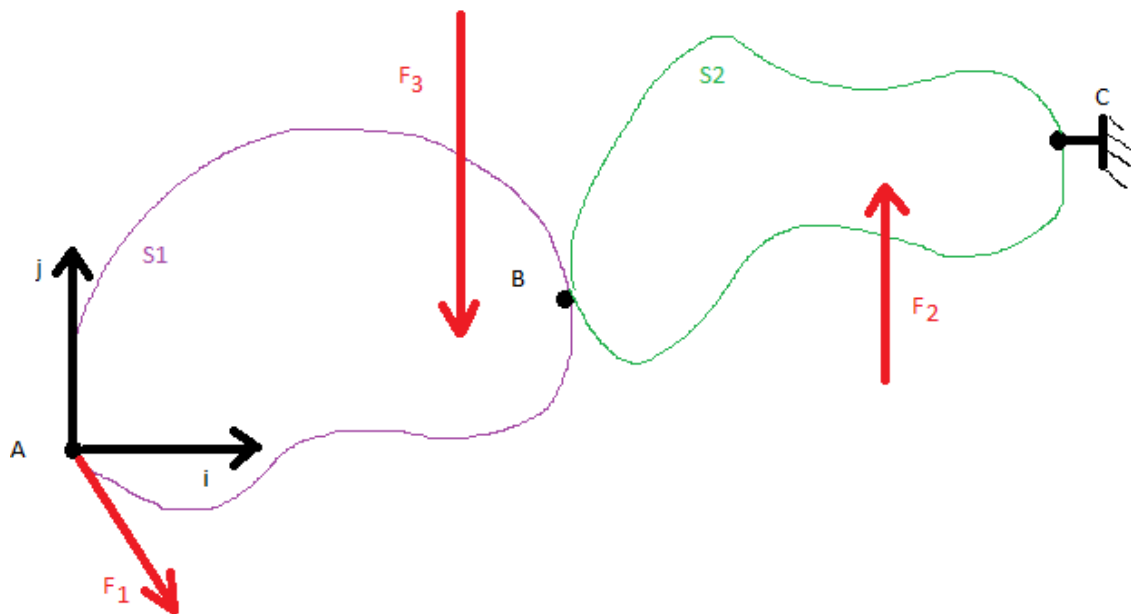


Figure 5.1: Deux solides en contact, reliés au monde extérieur par un encastrement et chargés.

Comment compte-t-on le nombre d'inconnues hyperstatique ?

La réponse est dans la vidéo 034 disponible sur <http://umotion.univ-lemans.fr/search/?q=034>. Regarde-la, puis évalue son intérêt en entourant son numéro à la dernière page du poly si elle est intéressante, ou en la barrant si elle n'est pas intéressante.

5.1.2 Exemple isostatique

Soient deux solides (Fig. 5.1) soudés entre eux au point B liés par un encastrement en C au monde extérieur et subissant trois forces ponctuelles connues.

Si l'on souhaite calculer les réactions à la liaison encastrement, on isole l'ensemble S1 et S2. Le principe fondamental de la statique donne, si l'on fait l'hypothèse que le problème est dans le plan (A, \vec{i}, \vec{j}) ,

$$\left\{ \begin{array}{c} F_{1i}\vec{i} + F_{1j}\vec{j} \\ +0\vec{k} \end{array} \right\}_A + \left\{ \begin{array}{c} F_{2j}\vec{j} \\ +0\vec{k} \end{array} \right\}_D + \left\{ \begin{array}{c} -F_{3j}\vec{j} \\ +0\vec{k} \end{array} \right\}_E + \left\{ \begin{array}{c} R_1\vec{i} + R_2\vec{j} \\ +C_1\vec{k} \end{array} \right\}_C = \{0\}. \quad (5.2)$$

On exprime tous ces torseurs en un même point, par exemple C,

$$\left\{ \begin{array}{c} F_{1i}\vec{i} + F_{1j}\vec{j} \\ (F_{1i}\vec{i} + F_{1j}\vec{j}) \wedge \vec{AC} \end{array} \right\}_C + \left\{ \begin{array}{c} F_{2j}\vec{j} \\ F_{2j}\vec{j} \wedge \vec{DC} \end{array} \right\}_C + \left\{ \begin{array}{c} -F_{3j}\vec{j} \\ -F_{3j}\vec{j} \wedge \vec{EC} \end{array} \right\}_C + \left\{ \begin{array}{c} R_1\vec{i} + R_2\vec{j} \\ +C_1\vec{k} \end{array} \right\}_C = \{0\}. \quad (5.3)$$

L'écriture des deux équations de résultantes sur \vec{i} et \vec{j} et de l'équation de moment autour de l'axe $C\vec{k}$ nous permet de trouver les trois inconnues R_1 , R_2 et C_1 .



Pour vérifier que vous avez assimilé ce paragraphe, je vous invite à obtenir le brevet 179.

brevet 179 : Solide et équilibre

auteur : JM Génevaux ; ressource : [?], paragraphe .

Soit la structure suivante : une cube dont les huit sommets A,B,C,D,E,F,G,Q sont positionnés telles que leurs coordonnées respectives dans un repère $(O, \vec{i}, \vec{j}, \vec{k})$ orthonormé direct soient $(a, -a, -a)$, $(a, a, -a)$, (a, a, a) , $(a, -a, a)$, $(-a, -a, -a)$, $(-a, a, -a)$, $(-a, a, a)$ et $(-a, -a, a)$. Ce solide est lié au référentiel extérieur par une liaison glissière d'axe $B\vec{j}$ et avec un appui ponctuel $E\vec{j}$. Ce cube subit une force en C de direction \vec{j} et de module 324 [N].

Le système est-il isostatique ? Quelles sont les réactions aux liaisons ?

Si l'on souhaite calculer les actions de S2 sur S1 au point B, on isole l'ensemble S1.

$$\left\{ \begin{array}{c} F_{1i}\vec{i} + F_{1j}\vec{j} \\ +0\vec{k} \end{array} \right\}_A + \left\{ \begin{array}{c} -F_{3j}\vec{j} \\ +0\vec{k} \end{array} \right\}_E + \left\{ \begin{array}{c} R_3\vec{i} + R_4\vec{j} \\ +C_2\vec{k} \end{array} \right\}_B = \{0\}. \quad (5.4)$$

On exprime tous ces torseurs en un même point, évidemment B,

$$\left\{ \begin{array}{c} F_{1i}\vec{i} + F_{1j}\vec{j} \\ (F_{1i}\vec{i} + F_{1j}\vec{j}) \wedge \vec{AB} \end{array} \right\}_B + \left\{ \begin{array}{c} -F_{3j}\vec{j} \\ -F_{3j}\vec{j} \wedge \vec{EB} \end{array} \right\}_+ + \left\{ \begin{array}{c} R_3\vec{i} + R_4\vec{j} \\ +C_2\vec{k} \end{array} \right\}_B = \{0\}. \quad (5.5)$$

L'écriture des deux équations de résultantes sur \vec{i} et \vec{j} et de l'équation de moment autour de l'axe $B\vec{k}$,

$$F_{1i} + R_3 = 0, \quad (5.6)$$

$$F_{1j} - F_{3j} + R_4 = 0, \quad (5.7)$$

$$F_{1i}a_2 + F_{1j}a_1 - F_{3j}b_1 + C_2 = 0, \quad (5.8)$$

avec $\vec{AB} = a_1\vec{i} + a_2\vec{j}$ et $\vec{EB} = b_1\vec{i} + b_2\vec{j}$, nous permet de trouver les trois inconnues R_3 , R_4 et C_2 . Les 3 inconnues à la liaison en B étant trouvées en fonction des chargements supposés connus, ce problème est dit isostatique.



Pour vérifier que vous avez assimilé ce paragraphe, je vous invite à obtenir le brevet 181.

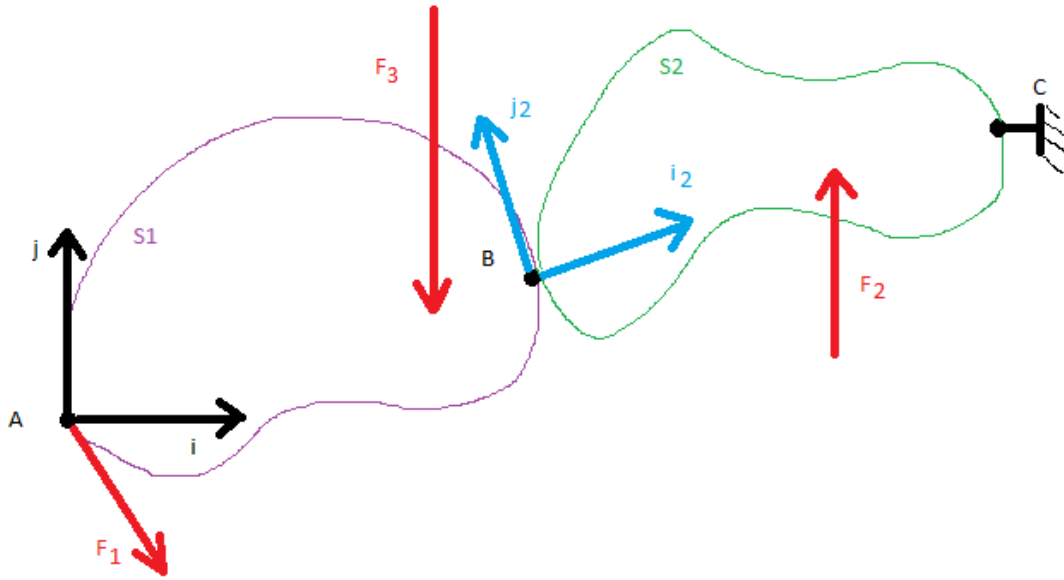


Figure 5.2: Deux solides en contact avec un plan tangent et une direction normale, reliés au monde extérieur par un encastrement et chargés.

brevet 181 : Solide en deux morceaux et équilibre
auteur : JM Géneaux ; ressource : [?], paragraphe .

Soit les structures suivantes :

- un cube dont les huit sommets A,B,C,D,E,F,G,Q sont positionnés telles que leurs coordonnées respectives dans un repère $(O, \vec{i}, \vec{j}, \vec{k})$ orthonormé direct soient $(a, -a, -a)$, $(a, a, -a)$, (a, a, a) , $(a, -a, a)$, $(-a, -a, -a)$, $(-a, a, -a)$, $(-a, a, a)$ et $(-a, -a, a)$. Ce solide est lié au référentiel extérieur par une liaison glissière d'axe $B\vec{j}$. Ce cube subit une force en C de direction \vec{j} et de module 324 [N].
- un cylindre ST d'axe $S\vec{i}$ de rayon $a/2$ de longueur $2a$, avec S milieu de la face ABCD et $\vec{ST} = 2a\vec{i}$. Il est en appui ponctuel $T\vec{j}$.

Quelles sont les actions en S du cube sur le cylindre ?

5.2 Torseur d'inter-effort entre deux solides dans un repère local

Nous avons calculé dans 5.1.2 les réactions aux liaisons. Les réactions aux liaisons sont exprimées dans le repère global. Pourtant, il apparaît un plan tangent et une direction normale \vec{i}_2 entre les deux solides au point B. Intéressons nous à ces réactions dans ce repère local.

Sur l'exemple ci-dessus, on peut calculer le repère local en fonction du repère global,

$$\vec{i}_2 = \cos \alpha \vec{i} + \sin \alpha \vec{j}, \quad (5.9)$$

$$\vec{j}_2 = -\sin \alpha \vec{i} + \cos \alpha \vec{j}, \quad (5.10)$$

$$\vec{k}_2 = \vec{k}. \quad (5.11)$$

mais aussi calculer le repère global en fonction du repère local,

$$\vec{i} = \cos \alpha \vec{i}_2 - \sin \alpha \vec{j}_2, \quad (5.12)$$

$$\vec{j} = \sin \alpha \vec{i}_2 + \cos \alpha \vec{j}_2, \quad (5.13)$$

$$\vec{k} = \vec{k}_2. \quad (5.14)$$

Lorsque l'on injecte ces dernières équations dans le torseur des actions de S2 sur S1, on trouve les composantes de ce torseur dans le repère local.

$$\{\tau_{21}\} = \left\{ \begin{array}{l} R_3 \vec{i} + R_4 \vec{j} \\ + C_2 \vec{k} \end{array} \right\}_B \quad (5.15)$$

$$= \left\{ \begin{array}{l} R_3 (\cos \alpha \vec{i}_2 - \sin \alpha \vec{j}_2) + R_4 (\sin \alpha \vec{i}_2 + \cos \alpha \vec{j}_2) \\ + C_2 \vec{k} \end{array} \right\}_B \quad (5.16)$$

$$= \left\{ \begin{array}{l} (R_3 \cos \alpha + R_4 \sin \alpha) \vec{i}_2 + (-R_3 \sin \alpha + R_4 \cos \alpha) \vec{j}_2 \\ + C_2 \vec{k} \end{array} \right\}_B, \quad (5.17)$$

$$= \left\{ \begin{array}{l} R_5 \vec{i}_2 + R_6 \vec{j}_2 \\ + C_2 \vec{k}_2 \end{array} \right\}_B, \quad (5.18)$$

$$(5.19)$$

avec $R_5 = R_3 \cos \alpha + R_4 \sin \alpha$, $R_6 = -R_3 \sin \alpha + R_4 \cos \alpha$ et $C_2 = C_1$.



Pour vérifier que vous avez assimilé ce paragraphe, je vous invite à obtenir le brevet 184.

brevet 184 : Solide en deux morceaux, équilibre et torseur exprimé dans la base tangente locale

auteur : JM Génevaux ; ressource : [?], paragraphe .

Soit un cube dont les huit sommets A,B,C,D,E,F,G,Q sont positionnés telles que leurs coordonnées respectives dans un repère $(O, \vec{i}, \vec{j}, \vec{k})$ orthonormé direct soient $(a, -a, -a)$, $(a, a, -a)$, (a, a, a) , $(a, -a, a)$, $(-a, -a, -a)$, $(-a, a, -a)$, $(-a, a, a)$ et $(-a, -a, a)$. Ce solide est lié au référentiel extérieur par une liaison encastrement au point A. Ce cube subit une force en C de direction \vec{j} . Ce cube est coupé en deux par un plan passant par son barycentre O et de normale le vecteur $\vec{n} = \cos 3\pi/8 \vec{i} + \sin 3\pi/8 \vec{j}$.

Dessinez ce cube, la normale et le plan de coupe. Quelles sont les actions du morceau S2 de solide contenant le point C, sur le morceau S1 du solide contenant le point A, exprimées au point O et dans la base locale du plan tangent et de la normale ?

Formation à la capacité orange de statique des poutres droites.

Chapter 6

Torseur des efforts intérieurs et composantes

6.1 Notion de poutre

Attention : ce cours ne traite pas

- des poutres à fibre moyenne courbe,
- des systèmes hyperstatiques,
- du calcul des directions principales d'une section droite.

Pour plus de détails, veuillez consulter le cours fait à l'Ensim en quatrième année.

Un corps dont l'une des dimensions est bien plus grande que les deux autres sera appelé *poutre* uniquement dans le cas où, si il est maintenu à l'une de ses extrémités horizontalement, il reste quasi-horizontale sous son poids propre. Dans le cas contraire, ce corps élancé sera appelé *corde*.

Qu'est-ce que la fibre moyenne d'une poutre ?

La réponse est dans la vidéo 054 disponible sur <http://umotion.univ-lemans.fr/search/?q=054>. Regarde-la, puis évalue son intérêt en entourant son numéro à la dernière page du poly si elle est intéressante, ou en la barrant si elle n'est pas intéressante.

Le même jeu de relations observé en élasticité tridimensionnelle est présent dans le cas de la théorie des poutres (voir tableau 6.1), seules les grandeurs utilisées sont décrites à l'aide d'objets que l'on appelle torseur. Ce sont les mêmes êtres mathématiques que ceux que vous avez utilisé en mécanique des solides indéformables pour décrire leur mouvement. Ils seront ici simplement associés aux déplacement et rotation d'une section droite, aux déformations d'une section droite et aux efforts généralisés (résultante et moment) sur cette section.

Pour décrire ce système d'équations, nous allons considérer uniquement des poutres droites, c'est-à-dire dont la grande dimension est rectiligne dans la direction \vec{x} . Nous appellerons *sections droites* les coupes de cette poutre dans des plans perpendiculaires à \vec{x} et *fibre moyenne* l'ensemble des barycentres H de ces sections droites. On pourra représenter la poutre par sa fibre moyenne, qui sera orientée d'un point A à un point B .

Nous considérerons, une poutre de référence, de longueur l .

Pourquoi fait-on la théorie des poutres avant de faire l'élasticité ?

La réponse est dans la vidéo 057 disponible sur <http://umotion.univ-lemans.fr/search/?q=057>. Regarde-la, puis évalue son intérêt en entourant son numéro à la dernière page du poly si elle est intéressante, ou en la barrant si elle n'est pas intéressante.

	torseur des déplacements	torseur des déformations	torseur des efforts intérieurs
	$\{U\} = \begin{Bmatrix} \dot{\omega} \\ \vec{u} \end{Bmatrix}_H$	$\{Def\} = \begin{Bmatrix} \alpha_x \ddot{x} + \alpha_y \ddot{y} + \alpha_z \ddot{z} \\ \epsilon_x \ddot{x} + \gamma_y \ddot{y} + \gamma_z \ddot{z} \end{Bmatrix}_H$	$\{\tau_{int}\} = \begin{Bmatrix} N \ddot{x} + T_y \ddot{y} + T_z \ddot{z} \\ M_x \ddot{x} + M_{fy} \ddot{y} + M_{fz} \ddot{z} \end{Bmatrix}_H$
condition aux limites en déplacement	$\{U\} = \{U\}_d$ au point P_d		
passage déplacements déformations	formules de Bresse (fonction de $\epsilon_x, \gamma_y, \dots$)		
loi de comportement	formules de Bresse (fonction de N, T_y, \dots)	$\alpha_x = M_x / GI_0^c$ $\alpha_y = M_{fy} / EI_{Hy}$ $\alpha_z = M_{fz} / EI_{Hz}$ $\epsilon_x = N / ES$ $\gamma_y = T_y / GS_y$ $\gamma_z = T_z / GS_z$	$M_x = \alpha_x GI_0^c$ $M_{fy} = \alpha_y EI_{Hy}$ $M_{fz} = \alpha_z EI_{Hz}$ $N = \epsilon_x ES$ $T_y = \gamma_y GS_y$ $T_z = \gamma_z GS_z$
équations d'équilibre (poutre droite)			$p_x + \frac{dN}{ds} = 0$ $p_y + \frac{dT_y}{ds} = 0$ $p_z + \frac{dT_z}{ds} = 0$ $c_x + \frac{dM_x}{ds} = 0$ $c_y + \frac{dM_{fy}}{ds} - T_z = 0$ $c_z + \frac{dM_{fz}}{ds} + T_y = 0$
condition aux limites en chargement			$-\{\tau_{s+}\} + \{\tau_{s-}\} = \{\tau_d\}$ au point P_f
passage torseur contrainte			$\sigma_{xx} = N/S - \frac{M_{fy} \ddot{z}}{I_{Hy}} + \frac{M_{fz} \ddot{y}}{I_{Hz}}$ $\sigma_{yx} = \frac{T_y g_y(\ddot{y}, \ddot{z})}{S}$ $\sigma_{zx} = \frac{T_z g_z(\ddot{y}, \ddot{z})}{S}$ $\sigma_{yy} = 0$ $\sigma_{yz} = 0$ $\sigma_{zz} = 0$ $\sigma_{\theta x} = \frac{M_x \ddot{r} g_\theta(\ddot{y}, \ddot{z})}{I_0}$

Table 6.1: Équations de la mécanique des solides déformables dans le cas d'une modélisation unidimensionnelle.



Figure 6.1: Un bureau plein d'objets manufacturés (pas de remarque sur le rangement... merci !)



Pour vérifier que vous avez assimilé ce paragraphe, je vous invite à obtenir le brevet 078.

brevet 0078 : Identification de poutres parmi des objets manufacturés

auteur : JM Géneaux ; ressource : [?] ; autoattribution .

Si vous avez du mal à faire ce brevet, je vous invite à lire le paragraphe *De l'élasticité à la théorie des poutres* et de regarder les vidéos afférentes.

Déterminez parmi les objets présents sur la figure 6.1, au moins 6 objets qui soient modélisables par une poutre, ou dont une partie est modélisable par une poutre.

6.2 Torseur d'inter-effort entre un solide et une poutre

Imaginons maintenant que le solide S2 soit un solide élancé, c'est à dire avec une dimension bien plus grande que les deux autres (Fig. 6.2).

Nous utiliserons dans ce cours le vecteur unitaire \vec{i}_2 pour indiquer la direction de la poutre, et \vec{j}_2 et \vec{k}_2 les deux directions perpendiculaires à \vec{i}_2 telles que $(\vec{i}_2, \vec{j}_2, \vec{k}_2)$ soit une base orthonormée directe. Le vecteur $\vec{i}_2 = \vec{x}$ évoqué précédemment dans le cas où la poutre est orientée dans le même sens que \vec{i}_2 afin de calculer le torseur des efforts intérieurs (voir plus loin). Les actions de la poutre sur le solide S1 peuvent être calculées en appliquant la démarche précédente qui est inchangée, car elle ne dépend pas de la forme du solide S2. Le torseur des actions de S2 sur S1, exprimé dans le repère local est donc :

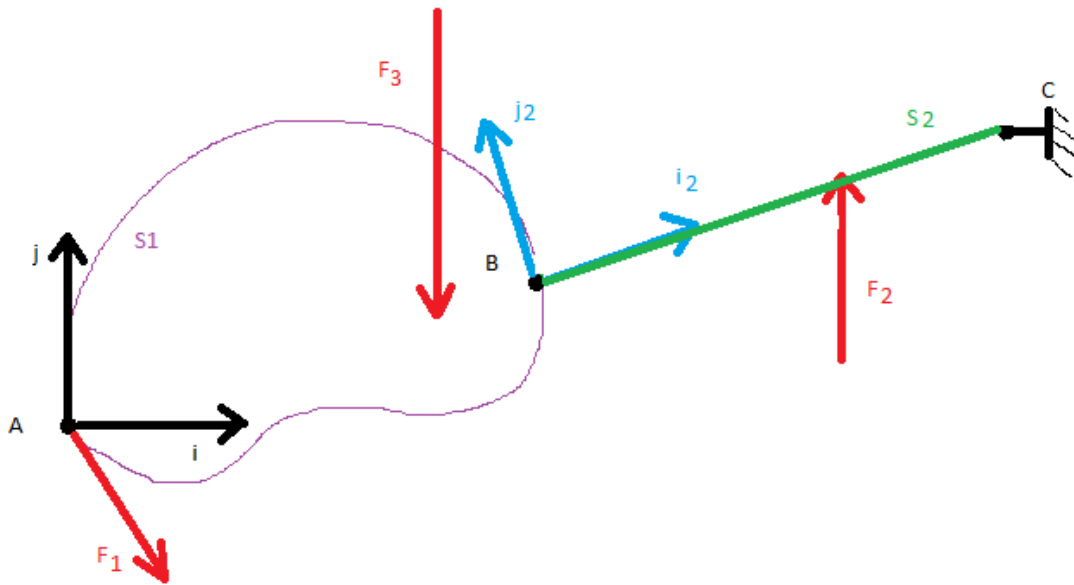


Figure 6.2: Un solide en contact avec une poutre, reliés au monde extérieur par un encastrement et chargés.

$$\{\tau_{21}\} = \left\{ \begin{array}{l} R_5 \vec{i}_2 + R_6 \vec{j}_2 \\ + C_2 \vec{k}_2 \end{array} \right\}_B \quad (6.1)$$

$$(6.2)$$



Pour vérifier que vous avez assimilé ce paragraphe, je vous invite à obtenir le brevet 180.

brevet 180 : Solide en deux morceaux et équilibre
auteur : JM Géneaux ; ressource : [?], paragraphe .

Soit les structures suivantes :

- un cube dont les huit sommets A,B,C,D,E,F,G,Q sont positionnés telles que leurs coordonnées respectives dans un repère $(O, \vec{i}, \vec{j}, \vec{k})$ orthonormé direct soient $(a, -a, -a)$, $(a, a, -a)$, (a, a, a) , $(a, -a, a)$, $(-a, -a, -a)$, $(-a, a, -a)$, $(-a, a, a)$ et $(-a, -a, a)$. Ce solide est lié au référentiel extérieur par une liaison glissière d'axe $B\vec{j}$. Ce cube subit une force en C de direction \vec{j} et de module 324 [N].
- une poutre ST d'axe $S\vec{i}$ de rayon $a/10$ de longueur $3a$, avec S milieu de la face ABCD et $S\vec{T} = 3a\vec{i}$. Il est en appui ponctuel $T\vec{j}$.

Quelles sont les actions en S de la poutre sur le cube ?

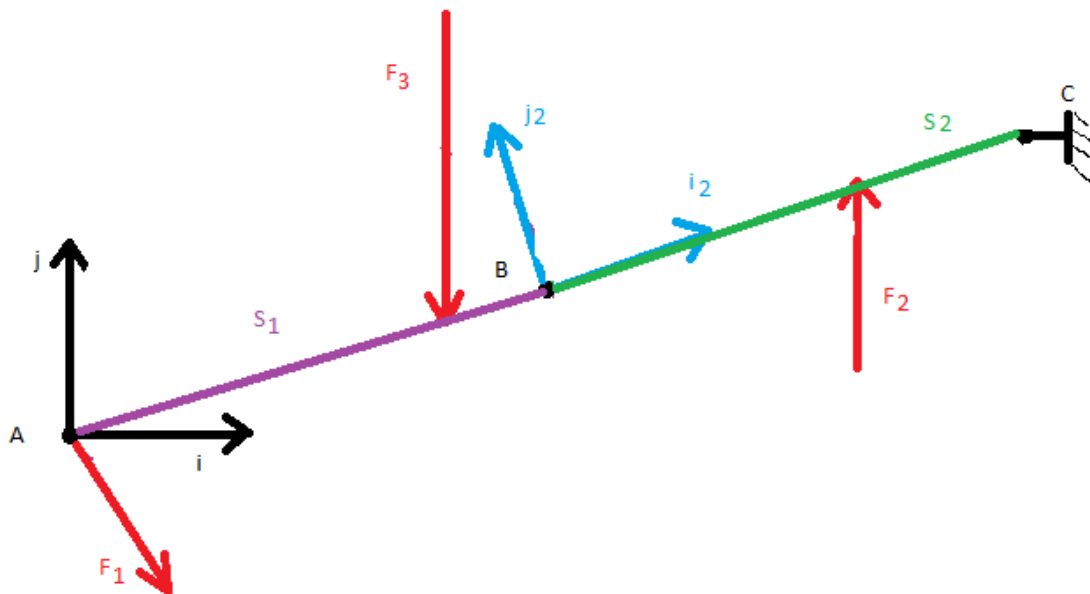


Figure 6.3: Deux poutres soudées entre elles au point B, reliées au monde extérieur par un encastrement et chargées.

6.3 Torseur des efforts intérieurs

Imaginons maintenant que le solide S1 soit aussi une poutre ayant la même direction que la poutre S2 (Fig. 6.3).

Si l'on s'intéresse aux actions de la poutre S2 sur la poutre S1, dans le repère local, rien n'est changé :

$$\{\tau_{21}\} = \left\{ \begin{array}{c} R_5 \vec{i}_2 + R_6 \vec{j}_2 \\ + C_2 \vec{k}_2 \end{array} \right\}_B \quad (6.3)$$

$$(6.4)$$

Si maintenant on s'intéresse au torseur des actions de S1 sur S2, du fait du principe des actions et réactions, le résultat est l'opposé du torseur des actions de S2 sur S1 :

$$\{\tau_{12}\} = -\{\tau_{21}\} \quad (6.5)$$

$$= \left\{ \begin{array}{c} -R_5 \vec{i}_2 - R_6 \vec{j}_2 \\ -C_2 \vec{k}_2 \end{array} \right\}_B \quad (6.6)$$

Comment fonctionne le principe d'action et de réaction ?

La réponse est dans la vidéo 004 disponible sur <http://umotion.univ-lemans.fr/search/?q=004>. Regarde-la, puis évalue son intérêt en entourant son numéro à la dernière page du poly si elle est intéressante, ou en la barrant si elle n'est pas intéressante.

Comme les poutres S1 et S2 sont liées par un encastrement entre elles, considérons maintenant la poutre S qui est l'union de ces deux poutres S1 et S2. Si l'on souhaite connaître les efforts et couples à l'intérieur de cette poutre au point B, il faut choisir l'un des deux torseurs : actions de S2 sur S1 ou actions S1 sur S2 ? Pour choisir, il est nécessaire d'orienter la poutre, par exemple de A vers C (Fig. 6.4a). On notera \vec{x} le vecteur tangent à la poutre dans le sens de l'orientation de celle-ci. Sur l'exemple, on aura $\vec{x} = \vec{i}_2$. Le segment AB sera l'amont de la poutre au point B et le

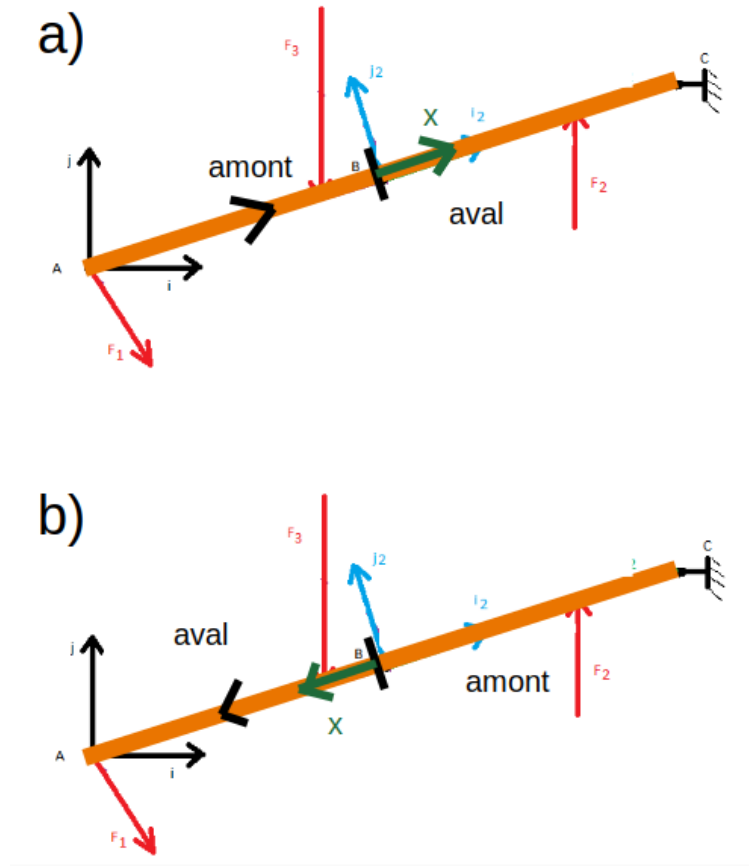


Figure 6.4: L'orientation de la poutre permet de définir les secteurs amont et aval, donc le vecteur \vec{x} , donc le torseur des efforts intérieurs (actions de l'aval sur l'amont).

segment BC sera l'aval au point B. Par convention, nous appellerons torseur des efforts intérieurs, les actions de l'aval sur l'amont. Si la poutre avait été orientée de C vers A (Fig. 6.4b), alors $\vec{x} = -\vec{i}_2$.

6.3.1 Deux méthodes de calcul du torseur des efforts intérieurs

Pour le calculer on peut faire l'équilibre de l'amont ou de l'aval.

- Équilibre de l'amont :

$$\sum \{\tau_{ext \rightarrow amont}\} + \{\tau_{effint}\} = \{0\}, \quad (6.7)$$

où $\sum \{\tau_{ext \rightarrow amont}\}$ désigne la somme de tous les torseurs extérieurs agissant sur l'amont, d'où,

$$\{\tau_{effint}\} = - \sum \{\tau_{ext \rightarrow amont}\}. \quad (6.8)$$

Pour notre exemple, dans le cas où l'on choisi l'orientation de A vers C, cela fourni :

$$\{\tau_{effint}\} = - \left\{ \begin{array}{c} F_{1i}\vec{i} + F_{1j}\vec{j} \\ +0\vec{k} \end{array} \right\}_A - \left\{ \begin{array}{c} -F_{3j}\vec{j} \\ +0\vec{k} \end{array} \right\}_E. \quad (6.9)$$

On remarquera que les deux torseurs extérieurs sont des données du problème. Le calcul du torseur des efforts intérieurs est donc faisable directement.

- Équilibre de l'aval :

$$\sum\{\tau_{ext \rightarrow aval}\} - \{\tau_{effint}\} = \{0\}, \quad (6.10)$$

où $\sum\{\tau_{ext \rightarrow aval}\}$ désigne la somme de tous les torseurs extérieurs agissant sur l'aval, d'où,

$$\{\tau_{effint}\} = \sum\{\tau_{ext \rightarrow aval}\}. \quad (6.11)$$

Pour notre exemple, dans le cas où l'on choisi l'orientation de A vers C, cela fourni :

$$\{\tau_{effint}\} = \left\{ \begin{array}{c} F_{2j}\vec{j} \\ +0\vec{k} \end{array} \right\}_D + \left\{ \begin{array}{c} R_1\vec{i} + R_2\vec{j} \\ +C_1\vec{k} \end{array} \right\}_C. \quad (6.12)$$

On remarquera que le torseurs extérieur en D est connu car c'est une donnée du problème, mais que le torseur de réactions en C n'est pas a priori connu. Il faut donc faire l'équilibre global de la structure pour le déterminer comme cela est fait dans la section 5.1.2. Le calcul du torseur des efforts intérieurs est donc plus long... pour un résultat qui est évidemment identique.

Nous vous conseillons donc,

- de choisir le segment où tous les torseurs sont connus, sans avoir à faire l'équilibre global de la structure,
- s'il y a des liaisons sur les secteurs amont et aval, de choisi le segment où il y a le moins de torseurs à calculer.



Pour vérifier que vous avez assimilé ce paragraphe, je vous invite à obtenir le brevet 002.

brevet 002 : choix du secteur aval ou amont à utiliser pour le calcul du torseur des efforts intérieurs
auteur : JM Génevaux ; ressource : [?] ; autoattribution .

Si vous avez du mal à faire ce brevet, je vous invite à lire le paragraphe *Efforts intérieurs* et de regarder les vidéos afférentes.

Soient les points A,B,C,D,E positionnés tels que $\vec{AB} = l\vec{i} + a\vec{j}$, $\vec{AC} = 2l\vec{i}$, $\vec{AE} = 2.5l\vec{i}$, $\vec{AD} = 3l\vec{i}$. Soit une poutre formée par les lignes droites AB, BC, CE et ED. Cette poutre est en appui simple en A et en appui sur rouleau de normale \vec{j} en C. Elle résiste vaillamment à une charge répartie sur le segment ED de force linéique $d\vec{F} = p dx\vec{j}$. Soient (H_1, H_2, H_3) les points courants des fibres moyennes AC, CE et ED. La poutre est orientée de A vers D.

Donnez pour chaque point H_1, H_2, H_3 , la définition du torseur des efforts intérieurs que vous utiliserez pour faire le moins de calculs possibles (vers l'aval ou vers l'amont ?).

6.3.2 Les composantes

Ce torseur des efforts intérieurs au point B peut être exprimé dans la base locale orthonormée directe $(\vec{x}, \vec{y}, \vec{z})$. Par définition nous noterons,

$$\{\tau_{effint}\} = \left\{ \begin{array}{l} N\vec{x} + T_y\vec{y} + T_z\vec{z} \\ M_x\check{x} + M_{fy}\check{y} + M_{fz}\check{z} \end{array} \right\}_B, \quad (6.13)$$

avec N l'effort normal, T_y l'effort tranchant dans la direction \vec{y} , T_z l'effort tranchant dans la direction \vec{z} , M_x le moment de torsion autour de l'axe $B\vec{x}$, M_{fy} le moment fléchissant autour de l'axe $B\vec{y}$ et M_{fz} le moment fléchissant autour de l'axe $B\vec{z}$.

Pourquoi est-il indispensable de calculer le torseur des efforts intérieurs dans une base locale ?
La réponse est dans la vidéo 303 disponible sur <http://umotion.univ-lemans.fr/search/?q=303>. Regarde-la, puis évalue son intérêt en entourant son numéro à la dernière page du poly si elle est intéressante, ou en la barrant si elle n'est pas intéressante.



Pour vérifier que vous avez assimilé ce paragraphe, je vous invite à obtenir le brevet 182, 821, 822. Si vous avez des difficultés, je vous invite à vous appuyer sur le "coup de pouce" qui décrit la démarche théorique à suivre, mais aussi à contacter le référent du brevet.

brevet 182 : Poutre en deux morceaux et équilibre

auteur : JM Génevaux ; ressource : [?], paragraphe .

Soit une poutre de section circulaire de rayon $a/20$ reliant les points B,C,S,T sont positionnés telles que leurs coordonnées respectives dans un repère $(O, \vec{i}, \vec{j}, \vec{k})$ orthonormé direct soient $(a, a, -a), (a, a, a), (a, 0, 0)$ et $(4a, 0, 0)$. Ce solide est lié au référentiel extérieur par une liaison glissière d'axe $B\vec{j}$. Ce cube subit une force en C de direction \vec{j} et de module 324 [N] et est en appui ponctuel $T\vec{j}$.

Quelles sont les composantes du torseur des efforts intérieurs en un point U de coordonnées $(1.05a, 0, 0)$ si l'on oriente la poutre de B vers T ?

brevet 821 : Est-ce une sollicitation de traction/compression ?

Sur le viaduc de Millau, on s'intéresse au tablier entre deux poteaux.

On considérera la structure lors de sa construction, donc quand le poteau vertical est construit, que de part et d'autre de ce poteau, de chaque coté et symétriquement, les tabliers sont installés par tronçons en étant soutenu par les câbles.

Le tablier est-il sollicité en traction/compression ? Est-ce la seule sollicitation ?

brevet 822 : Est-ce une sollicitation de traction/compression ?

Sur le viaduc de Millau, on s'intéresse à la flèche au dessus du poteau qui débute au niveau du tablier.

La flèche est-elle sollicitée en traction/compression ? Est-ce la seule sollicitation ?



Figure 6.5: Le viaduc de Millau.

Formation à la capacité bleue de statique des poutres droites.

Chapter 7

Détermination du chargement maximal admissible par une poutre

7.1 L'élasticité tridimensionnelle linéaire isotrope

L'objectif de ce cours n'est pas de résoudre les problèmes appliqués à des solides tridimensionnels, aussi seront simplement rappelés ici pour information, les équations nécessaires à la résolution de ceux-ci.

Dans le cas d'un solide déformable, il nous faut définir la *loi de comportement* qui relie les tenseurs des déformations au tenseur des contraintes dans le cas orthotrope. Nous appellerons :

- E le module de Young du matériau (en Pa),
- ν le coefficient de Poisson du matériau (sans unité),
- $G = \frac{E}{2(1+\nu)}$ le module de Coulomb du matériau (en Pa),

Qu'est ce qu'un matériau orthotrope ?

La réponse est dans la vidéo 244 disponible sur <http://umotion.univ-lemans.fr/search/?q=244>. Regarde-la, puis évalue son intérêt en entourant son numéro à la dernière page du poly si elle est intéressante, ou en la barrant si elle n'est pas intéressante.

Que représente le module de Coulomb noté "G" ?

La réponse est dans la vidéo 018 disponible sur <http://umotion.univ-lemans.fr/search/?q=018>. Regarde-la, puis évalue son intérêt en entourant son numéro à la dernière page du poly si elle est intéressante, ou en la barrant si elle n'est pas intéressante.

On admettra que

$$\bar{\bar{\epsilon}} = \frac{1+\nu}{E} \bar{\bar{\sigma}} - \frac{\nu}{E} \text{trace}(\bar{\bar{\sigma}}) \bar{\bar{I}}_d, \quad (7.1)$$

ou

$$\bar{\bar{\sigma}} = 2\mu \bar{\bar{\epsilon}} + \lambda \text{trace}(\bar{\bar{\epsilon}}) \bar{\bar{I}}_d, \quad (7.2)$$

avec $\bar{\bar{\sigma}}$ le tenseur des contraintes et $\bar{\bar{\epsilon}}$ le tenseur des déformations.

Que signifient les 2 barres au dessus du terme ϵ ?

La réponse est dans la vidéo 253 disponible sur <http://umotion.univ-lemans.fr/search/?q=253>. Regarde-la, puis évalue son intérêt en entourant son numéro à la dernière page du poly si elle est intéressante, ou en la barrant si elle n'est pas intéressante.

Qu'est-ce qu'un tenseur ?

La réponse est dans la vidéo 058 et 074 disponibles sur <http://umotion.univ-lemans.fr/search/?q=058>

et <http://umotion.univ-lemans.fr/search/?q=074>. Regarde-la, puis évalue son intérêt en entourant son numéro à la dernière page du poly si elle est intéressante, ou en la barrant si elle n'est pas intéressante.

Qu'est ce que la trace d'un tenseur ?

La réponse est dans la vidéo 053 disponible sur <http://umotion.univ-lemans.fr/search/?q=053>. Regarde-la, puis évalue son intérêt en entourant son numéro à la dernière page du poly si elle est intéressante, ou en la barrant si elle n'est pas intéressante.

Comment différenciez-vous un tenseur et une matrice ?

La réponse est dans la vidéo 258 disponible sur <http://umotion.univ-lemans.fr/search/?q=258>. Regarde-la, puis évalue son intérêt en entourant son numéro à la dernière page du poly si elle est intéressante, ou en la barrant si elle n'est pas intéressante.

Que représente un terme hors diagonale dans la matrice des contraintes ?

La réponse est dans la vidéo 294 disponible sur <http://umotion.univ-lemans.fr/search/?q=294>. Regarde-la, puis évalue son intérêt en entourant son numéro à la dernière page du poly si elle est intéressante, ou en la barrant si elle n'est pas intéressante.

Ces deux équations étant équivalentes, il existe des relations entre module de Young et coefficients de Lamé :

$$\mu = \frac{E}{2(1+\nu)} = G, \quad (7.3)$$

$$\lambda = \frac{E\nu}{(1+\nu)(1-2\nu)}. \quad (7.4)$$

matériau	Mod. de Young 10 ⁹ Pa	Coeff. de Poisson	lim. élas. trac. 10 ⁶ Pa	lim. élast. compr. lim. élas. traction	masse vol. kg/m ³
acier	210	0.285	240	1	7800
aluminium AU4G	75	0.33	80	1	2800
béton	14 à 21	0.3	30	11	1900
bronze	100	0.31	126	3	8400
cuiivre	100	0.33	18	1.3	8900
fonte	100	0.29	18 à 25	3.3	7100
laiton	92	0.33	20	1.4	7300
marbre	25	0.3	50	15	2800
plexiglass	2.9	0.4	8	1.2	1800
titane	100	0.34	20 à 47d	1	4510
verre	60	0.2 à 0.3	3 à 8	10	2530

Poser un problème d'élasticité revient à définir des conditions aux limites en déplacement et en contrainte sur la surface de ce solide, d'écrire la relation entre déplacements et déformations, écrire l'équilibre (ou le PFD) sur un élément de volume. Il reste alors à chercher une solution à ce système d'équations présenté tableau 7.1. Pour la lecture de ce tableau, on rappellera simplement que en coordonnées cartésiennes,

- le laplacien d'une fonction $f(x, y, z)$ est $\Delta f = \frac{\partial^2 f}{\partial x^2} + \frac{\partial^2 f}{\partial y^2} + \frac{\partial^2 f}{\partial z^2}$,
- la matrice identité (des 1 sur la diagonale des 0 ailleurs) est notée $\bar{\bar{I}}_d$,
- le gradient d'un scalaire f est $\vec{grad} f = \frac{\partial f}{\partial x} \vec{x} + \frac{\partial f}{\partial y} \vec{y} + \frac{\partial f}{\partial z} \vec{z}$,
- la trace d'un tenseur est la somme des termes sur sa diagonale.

Pouvez-vous faire un schéma des déformations de cisaillement ?

La réponse est dans la vidéo 061 disponible sur <http://umotion.univ-lemans.fr/search/?q=061>. Regarde-la, puis évalue son intérêt en entourant son numéro à la dernière page du poly si elle est intéressante, ou en la barrant si elle n'est pas intéressante.

Que représentent les équations de compatibilité ?

La réponse est dans la vidéo 015 disponible sur <http://umotion.univ-lemans.fr/search/?q=015>.

	déplacements	déformations	contraintes
	\vec{u}	$\vec{\bar{\epsilon}}$	$\vec{\bar{\sigma}}$
condition aux limites en déplacement	$\vec{u} = \vec{u}_d$ sur Γ_u		
passage déplacements	+ éq. compatibilité $\epsilon_{ik,jl} - \epsilon_{kj,il} =$ $\epsilon_{il,jk} - \epsilon_{lj,ik}$ pour $i \neq j$ et $l \neq k$	$\vec{\bar{\epsilon}} = 1/2 \left(\text{grad } \vec{u} + {}^T \text{grad } \vec{u} \right)$	+ éq. compatibilité (Beltrami) $\frac{\partial^2 (\text{trace } \vec{\bar{\sigma}})}{\partial x_i \partial x_j} = 0$ si $\text{grad } f = 0$
déformations			
loi de comportement		$\vec{\bar{\epsilon}} = \frac{1+\nu}{E} \vec{\bar{\sigma}} - \frac{\nu}{E} \text{trace}(\vec{\bar{\sigma}}) \vec{I}_d$	$\vec{\bar{\sigma}} = 2\mu \vec{\bar{\epsilon}} + \lambda \text{trace}(\vec{\bar{\epsilon}}) \vec{I}_d$
équations d'équilibre (statique)	éq. de Navier: $(\lambda + \mu) \vec{\text{grad}}(\text{div } \vec{u})$ $+ \mu \text{div}(\text{grad } \vec{u}) + \rho \vec{u} = 0$		$\text{div } \vec{\bar{\sigma}} + \rho \vec{f} = 0$ $\frac{\partial \sigma_{xx}}{\partial x} + \frac{\partial \sigma_{xy}}{\partial y} + \frac{\partial \sigma_{xz}}{\partial z} + f_x = 0$ $\frac{\partial \sigma_{xy}}{\partial x} + \frac{\partial \sigma_{yy}}{\partial y} + \frac{\partial \sigma_{yz}}{\partial z} + f_y = 0$ $\frac{\partial \sigma_{xz}}{\partial x} + \frac{\partial \sigma_{yz}}{\partial y} + \frac{\partial \sigma_{zz}}{\partial z} + f_z = 0$
condition aux limites en contraintes			$\vec{T}(P, \vec{n}) = \vec{\bar{\sigma}} \vec{n} = \vec{F}_d$ sur Γ_f
passage contrainte torseur			$N = \int_S \sigma_{xx} dS$ $T_y = \int_S \sigma_{xy} dS$ $T_z = \int_S \sigma_{xz} dS$ $M_x = \int_S \sigma_{\theta x} r dS$ $M_{fy} = \int_S \sigma_{xx} z dS$ $M_{fz} = - \int_S \sigma_{xx} z dS$

Table 7.1: Equations de la mécanique des solides déformables dans le cas d'une modélisation tridimensionnelle

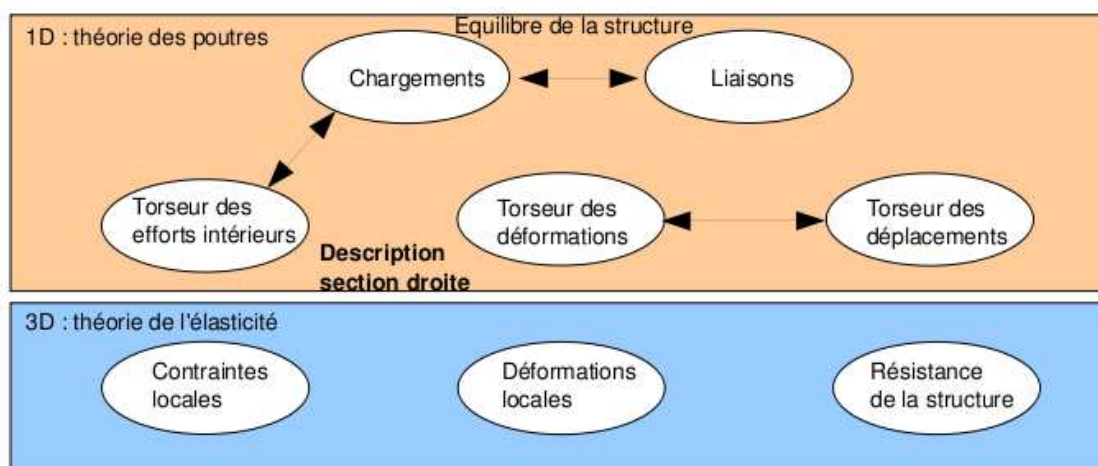


Figure 7.1: Les concepts utiles à la détermination à venir de la loi de comportement de la fibre moyenne.

Regarde-la, puis évalue son intérêt en entourant son numéro à la dernière page du poly si elle est intéressante, ou en la barrant si elle n'est pas intéressante.

Que représentent les équations de Beltrami ?

La réponse est dans la vidéo 016 disponible sur <http://umotion.univ-lemans.fr/search/?q=016>. Regarde-la, puis évalue son intérêt en entourant son numéro à la dernière page du poly si elle est intéressante, ou en la barrant si elle n'est pas intéressante.

Pour la déformation d'un solide, vous avez parlé de cisaillement, mais pas de torsion et de rotation. Pourquoi ?

La réponse est dans la vidéo 254 disponible sur <http://umotion.univ-lemans.fr/search/?q=254>. Regarde-la, puis évalue son intérêt en entourant son numéro à la dernière page du poly si elle est intéressante, ou en la barrant si elle n'est pas intéressante.

7.2 Description de la section droite

Ce paragraphe concerne les étapes mises en gras dans le synopsis figure 7.1.

La théorie des poutres n'utilisant que la fibre moyenne, il est nécessaire d'associer à cette fibre moyenne des grandeurs décrivant la section droite.

- **Erreur classique** : Attention aux unités ! Les intégrales sont effectuées sur des surfaces et non des volumes (comme dans le cas du cours de mécanique générale), et la masse volumique n'apparaît pas (comme dans le cas du cours de mécanique générale).

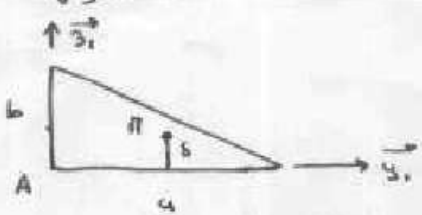
7.2.1 Moment statique d'une aire plane

Si la section droite est notée S , et δ la distance entre un point M de cette section droite et une droite Δ appartenant au plan de la section droite,

$$m_{\Delta} = \int \int_S \delta dS. \quad (7.5)$$

est le moment statique de cette section par rapport à la droite Δ . Elle est homogène à une longueur³.

Un exemple de calcul de moment statique est fait figure 7.2.



$\vec{A17} = \frac{2}{3} \vec{y}_1 + \frac{1}{3} \vec{z}_1$

$$\begin{aligned}
 m_{Ay_1} &= \int \int \delta \, d\vec{y}_1 \, d\vec{z}_1 \\
 &= \int_{y_1=0}^a \left[\int_{z_1=0}^{b - \frac{b}{a} y_1} \left(\frac{1}{2} z_1^2 \right) \frac{b - \frac{b}{a} y_1}{a} \, dz_1 \right] dy_1 \\
 &= \int_{y_1=0}^a \left[\frac{1}{2} z_1^2 \right]_0^{b - \frac{b}{a} y_1} \frac{b - \frac{b}{a} y_1}{a} \, dy_1 \\
 &= \frac{1}{2} \int_{y_1=0}^a \left[b^2 - \frac{2b^2}{a} y_1 + \frac{b^2}{a^2} y_1^2 \right] \frac{b - \frac{b}{a} y_1}{a} \, dy_1 \\
 &= \frac{1}{2} \left[b^2 a - \frac{b^2}{a} a^2 + \frac{b^2}{a^2} \frac{a^3}{3} \right] \\
 &= \frac{1}{2} b^3 \left[\frac{a}{b} - \frac{a}{b} + \frac{a}{3b} \right] \\
 &= \frac{1}{2} \frac{a b^2}{3}
 \end{aligned}$$

Figure 7.2: Exemple de détermination du moment statique d'une section droite triangulaire.

$$\begin{aligned}
S &= \frac{ab}{2} \\
\vec{AH} \cdot \vec{\Delta} &= \frac{m_{\Delta}}{S} \\
&= \frac{ab^2}{6ab} \\
&= \frac{b}{3}
\end{aligned}$$

Figure 7.3: Exemple de détermination du barycentre d'une section droite triangulaire.

7.2.2 Barycentre

Si d_H est la distance entre le barycentre de la section droite et la droite Δ appartenant au plan de la section droite, et S l'aire de la section droite, alors :

$$d_H = \frac{m_{\Delta}}{S}. \quad (7.6)$$

Le distance est homogène à une longueur (Si! Si! N'est-ce pas formidable ?).

Un exemple de calcul du barycentre est fait figure 7.3.

- **Erreur classique** : Ne pas confondre le barycentre H d'une section avec le centre de gravité G de la poutre complète. Ils ne sont pas confondus pour une poutre faite en deux matériaux de masse volumique différentes dans l'épaisseur (par exemple un bilame).

7.2.3 Moment quadratique - rayon de giration - produit quadratique d'une aire plane

La figure 7.4 présente un exemple des différents axes autour desquels peuvent être calculés les moments quadratiques et polaire passant par le barycentre H d'une section droite.

Le moment quadratique par rapport à une droite Δ appartenant au plan de la section droite

$$I_{\Delta} = \int \int_S \delta^2 dS, \quad (7.7)$$

est homogène à une longueur⁴. On peut donc l'écrire

- par rapport à l'axe $H\vec{y}$:

$$I_{Hy} = \int \int_S \tilde{z}^2 dS, \quad (7.8)$$

- par rapport à l'axe $H\vec{z}$:

$$I_{Hz} = \int \int_S \tilde{y}^2 dS. \quad (7.9)$$

Ce terme apparaîtra dans la loi de comportement en flexion : plus le point est éloigné de la fibre moyenne, plus il sera sollicité (proportionnalité à δ) et plus sa sollicitation créera un moment (à nouveau proportionnalité à δ): d'où le terme en δ^2 . A aire de section droite S constante, plus la matière est loin de la fibre moyenne, plus le moment quadratique est grand.

Si la section droite est notée S , δ la distance entre un point M de cette section droite et une droite Δ appartenant au plan de la section droite, et δ' la distance entre un point M de cette

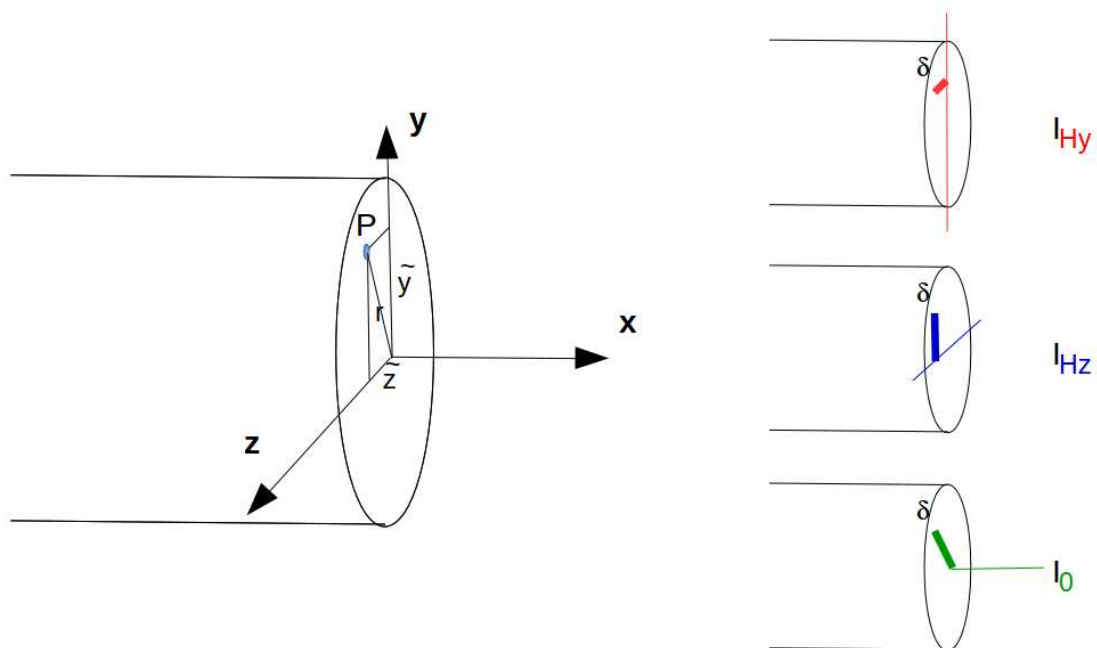


Figure 7.4: Exemples de définition de la distance δ pour chaque calcul de moment quadratique ou polaire.

section droite et une droite Δ' appartenant au plan de la section droite, le produit quadratique de cette section par rapport aux deux axes δ et δ' est donné par

$$I_{\Delta\Delta'} = - \int \int_S \delta \delta' dS, \quad (7.10)$$

qui est homogène à une longueur⁴. Par exemple, par rapport aux axes $H\vec{y}$ et $H\vec{z}$ le produit quadratique s'écrit :

$$I_{Hyz} = - \int \int_S \tilde{z} \tilde{y} dS. \quad (7.11)$$

Quelle est la différence entre un moment quadratique et un produit quadratique... et avez-vous un exemple ? La réponse est dans la vidéo 534 disponible sur <http://umotion.univ-lemans.fr/videos/?tag=534>. Regarde-la, puis évalue son intérêt en entourant son numéro à la dernière page du poly si elle est intéressante, ou en la barrant si elle n'est pas intéressante.

A l'aide de ces grandeurs, on peut construire le tenseur quadratique de la section droite. Par exemple, par rapport aux deux droites $H\vec{y}_1$ et $H\vec{z}_1$ avec \vec{y}_1 et \vec{z}_1 deux directions orthogonales entre elles, on obtient,

$$\bar{\bar{I}}_H = \begin{bmatrix} I_{Hy_1} & I_{Hy_1z_1} \\ I_{Hy_1z_1} & I_{Hz_1} \end{bmatrix}_{(\vec{y}_1, \vec{z}_1) \otimes (\vec{y}_1, \vec{z}_1)}. \quad (7.12)$$

Les axes principaux d'une section droite, sont les deux axes $H\vec{y}$ et $H\vec{z}$ tels que les termes hors diagonale de ce tenseur sont nuls :

$$\bar{\bar{I}}_H = \begin{bmatrix} I_{Hy} & 0 \\ 0 & I_{Hz} \end{bmatrix}_{(\vec{y}, \vec{z}) \otimes (\vec{y}, \vec{z})}. \quad (7.13)$$

Pour la diagonalisation d'une matrice, veuillez consulter vos cours de math ou [?].

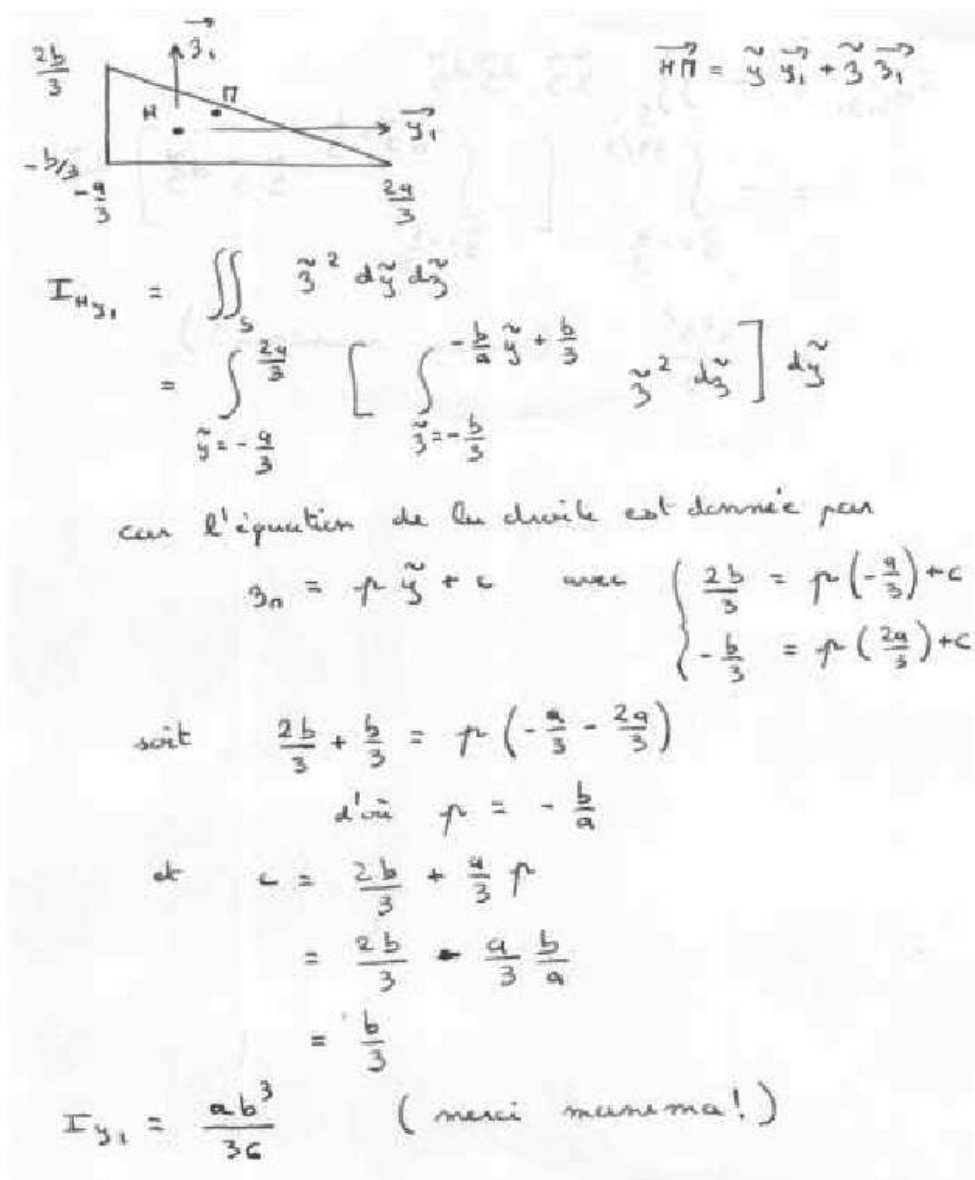


Figure 7.5: Exemple de détermination d'un moment quadratique d'une section droite triangulaire.

Qu'est ce physiquement qu'un moment quadratique ? La réponse est dans la vidéo 005 disponible sur <http://umotion.univ-lemans.fr/videos/?tag=005>. Regarde-la, puis évalue son intérêt en entourant son numéro à la dernière page du poly si elle est intéressante, ou en la barrant si elle n'est pas intéressante.

Exemple Les calculs d'un moment quadratique et d'un produit quadratique d'une section triangulaire par rapport à deux droites passant par son barycentre sont détaillés figures 7.5 et 7.6. Le calcul des directions principales et de l'expression du tenseur d'inertie dans cette base est donnée ci-dessous.

Si l'on prend comme dimensions de la section triangulaire $a = 3$ mm et $b = 2$ mm, le programme scilab (demo09.sce) suivant donne A la matrice associée au tenseur d'inertie dans la base $(\vec{y}_1, \vec{z}_1) \otimes (\vec{y}_1, \vec{z}_1)$, A_2 la matrice associée au tenseur d'inertie dans la base $(\vec{y}, \vec{z}) \otimes (\vec{y}, \vec{z})$ et X les vecteurs directeurs (en colonne) des deux directions principales.

$$\begin{aligned}
I_{H, y_1, z_1} &= - \iint_S y_1^2 z_1^2 dy_1 dz_1 \\
&= - \int_{y_1^2 = -\frac{a}{3}}^{\frac{2a}{3}} \left[\int_{z_1^2 = -\frac{b}{3}}^{-\frac{b}{3} + \frac{b}{3}} y_1^2 z_1^2 dz_1 \right] dy_1 \\
&= \frac{a^2 b^2}{72} \quad (\text{merci maxima!})
\end{aligned}$$

Figure 7.6: Exemple de détermination d'un produit quadratique d'une section droite triangulaire.

```

//demo09.sce avec scilab
a=3;b=2;
iyy=a*b^3/36;izz=b*a^3/36;iyz=a^2*b^2/72;izy=iyz;
A=[iyy,iyz;izy,izz];
Ai
[A2,X]=bdiag(A);
A2
X

```

Ceci fournit les résultats :

$$\bar{I}_H = \begin{bmatrix} 0.67 & 0.5 \\ 0.5 & 1.5 \end{bmatrix}_{(\vec{y}_1, \vec{z}_1) \otimes (\vec{y}_1, \vec{z}_1)} \text{ mm}^4. \quad (7.14)$$

$$\bar{I}_H = \begin{bmatrix} 0.43 & 0 \\ 0 & 1.73 \end{bmatrix}_{(\vec{y}, \vec{z}) \otimes (\vec{y}, \vec{z})} \text{ mm}^4. \quad (7.15)$$


$$\vec{y} = -0.91\vec{y}_1 + 0.42\vec{z}_1, \quad (7.16)$$

$$\vec{z} = -0.42\vec{y}_1 - 0.91\vec{z}_1. \quad (7.17)$$

Les deux vecteurs sont bien de norme 1. On remarquera dans ce cas que les directions principales ne sont pas parallèles à l'un des bords de la surface considérée. Les valeurs de moments quadratiques autour des deux axes principaux d'inertie sont les deux valeurs extrêmes (minimale et maximale) lorsque la base d'expression du tenseur d'inertie tourne autour de l'axe $H\vec{x}$.



Pour vérifier que vous avez assimilé ce paragraphe, je vous invite à obtenir la partie du brevet 006 associée au moment quadratique.



$$\begin{aligned}
 I_0 &= \iint_S r^2 r dr d\theta \\
 &= \int_{\theta=0}^{2\pi} \left[\int_{r=0}^{d/2} r^3 dr \right] d\theta \\
 &= \frac{d^4}{4 \cdot 2^4} \cdot 2\pi \\
 &= \frac{\pi d^4}{32}
 \end{aligned}$$

Figure 7.7: Exemple de détermination d'un moment polaire d'une section droite circulaire.

brevet 006 : Moment quadratique
auteur : JM Géneaux ; ressource : [?] et cours "mécanique générale" ; autoattribution .

Si vous avez du mal à faire ce brevet, je vous invite à lire le paragraphe *Moment quadratique - rayon de giration - produit quadratique d'une aire plane* et de regarder les vidéos afférentes.

Soit dans un repère global $(\vec{i}, \vec{j}, \vec{k})$, un tube d'acier de masse volumique $\rho = 7800 \text{ kg}\cdot\text{m}^{-3}$ de section circulaire de diamètre extérieur $d = 0.3 \text{ m}$, de diamètre intérieur $d_1 = 0.25 \text{ m}$, de longueur $l = 1.4 \text{ m}$, de centre d'inertie G , d'axe $G\vec{k}$.

Une section droite de ce cylindre, nécessite l'utilisation du repère local $(\vec{x}, \vec{y}, \vec{z})$, avec l'axe \vec{x} parallèle à l'axe \vec{k} . Quel est le moment quadratique I_{Hz} de la section droite passant par le point $H = G$?

7.2.4 moment polaire

Si la section droite est notée S , la normale à cette section \vec{x} (tangent à la fibre moyenne), et r la distance entre un point M de cette section droite et la droite $H\vec{x}$, alors le moment polaire par rapport à l'axe $H\vec{x}$

$$I_0 = \int \int_S r^2 dS. \quad (7.18)$$

a la dimension d'une longueur⁴.

Quelles différences entre moment quadratique et moment polaire ? La réponse est dans la vidéo 007 disponible sur <http://umotion.univ-lemans.fr/videos/?tag=007>. Regarde-la, puis évalue son intérêt en entourant son numéro à la dernière page du poly si elle est intéressante, ou en la barrant si elle n'est pas intéressante.

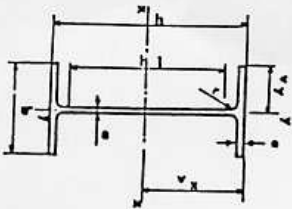
exemple Le calcul du moment polaire d'une section circulaire est détaillé figure 7.7.

- **Erreur classique** : Ne pas confondre moment quadratique et moment d'inertie. Ils ne sont pas homogènes entre eux !

- **Erreur classique :** Ne pas confondre produit quadratique et produit d'inertie. Ils ne sont pas homogènes entre eux !

7.2.5 Quelques exemples de sections droites

Poutres	Dimensions						Partie droite de l'âme h_1	Masse M par mètre M kg	Surface de peinture S cm ²	Surface de peinture S m ² /l	Caractéristiques rapportées à l'axe neutre							Moment d'inertie de torsion J cm ⁴	Module de résilience d cm	Profilés		
	h	b	a	e	f	g					I_x	I_y	I_{xy}	i_x	i_y	i_{xy}	r_x				r_y	
80	80	46	3,8	5,2	5	60	6,0	7,54	0,329	54,8	80,1	20,0	3,24	11,6	6,9	3,33	8,49	3,69	1,05	0,70	0,299	80
100	100	55	4,1	5,7	7	75	8,1	10,3	0,401	49,5	171	34,2	4,07	19,7	8,7	4,22	15,9	5,79	1,24	1,10	0,313	100
120	120	64	4,4	6,3	7	93	10,4	13,2	0,474	45,6	318	53,0	4,80	30,4	10,5	5,10	27,7	8,65	1,45	1,71	0,338	120
140	140	73	4,7	6,9	7	112	12,9	16,4	0,550	42,6	541	77,3	5,74	44,2	12,2	5,99	44,9	12,3	1,65	2,54	0,359	140
160	160	82	5,0	7,4	9	127	15,8	20,1	0,622	39,4	859	109	6,58	61,9	14,0	6,90	68,3	16,7	1,84	3,53	0,379	160
180	180	91	5,3	8,0	9	146	18,8	23,9	0,698	37,1	1317	146	7,42	83,2	15,9	7,78	101	22,2	2,05	4,90	0,404	180
200	200	100	5,6	8,5	12	159	22,4	28,5	0,768	34,3	1943	184	8,26	110	17,6	8,66	142	28,5	2,24	6,46	0,425	200
220	220	110	5,9	9,2	12	178	26,2	33,4	0,848	32,4	2772	252	9,11	143	19,4	9,67	205	37,3	2,48	8,86	0,460	220
240	240	120	6,2	9,8	15	190	30,7	39,1	0,921	30,0	3892	324	9,97	183	21,2	10,55	284	47,3	2,69	11,60	0,490	240
270	270	135	6,6	10,2	15	220	36,1	45,9	1,04	28,8	5790	429	11,2	239	24,2	11,88	420	62,2	3,02	14,93	0,510	270
300	300	150	7,1	10,7	15	249	42,2	53,8	1,16	27,5	8358	557	12,5	314	26,6	13,20	604	80,5	3,25	19,47	0,535	300
330	330	160	7,5	11,5	18	271	49,1	62,6	1,25	25,5	11770	713	13,7	402	29,3	14,52	788	98,5	3,55	25,70	0,558	330
360	360	170	8,0	12,7	18	299	57,1	72,7	1,35	23,6	16270	904	15,0	510	31,9	15,83	1043	123	3,79	36,20	0,600	360
400	400	180	8,6	13,5	21	331	66,3	84,5	1,47	22,2	23130	1180	16,5	654	35,4	17,50	1318	146	3,95	46,80	0,607	400
450	450	190	9,4	14,6	21	379	77,6	98,8	1,61	20,7	33740	1500	18,5	849	39,7	19,33	1876	176	4,12	63,80	0,618	450
500	500	200	10,2	16,0	21	426	90,7	116	1,74	19,2	48200	1930	20,4	1100	43,9	21,28	2142	214	4,31	89,00	0,640	500
550	550	210	11,1	17,2	24	488	106	134	1,88	17,7	67120	2440	22,3	1390	48,2	23,02	2668	254	4,45	118,4	0,657	550
600	600	220	12,0	19,0	24	514	122	156	2,02	16,6	92080	3070	24,3	1760	52,4	25,16	3387	308	4,66	166,2	0,697	600



poutrelles IPE

Figure 7.8: Un exemple de caractéristiques d'une section droite.



Pour vérifier que vous avez assimilé ce paragraphe, nous vous invitons à obtenir les brevets 040 et 094. Si vous avez des difficultés, je vous invite à vous appuyer sur le "coup de pouce" qui décrit la démarche théorique à suivre, mais aussi à contacter le référent du brevet.

brevet 040 : Moment polaire d'une section droite
auteur : JM Génevaux ; ressource : cours techno-mécanique ;
autoattribution .

Si vous avez du mal à faire ce brevet, je vous invite à lire le paragraphe *Moment quadratique - rayon de giration - produit quadratique d'une aire plane* et de regarder les vidéos afférentes.

Soit une section droite de section carré de coté $a = 10$ mm, évidée en son centre par une section circulaire de diamètre $d = 5$ mm.

Quelle est la valeur de son moment polaire I_0 par rapport à son axe $H\vec{x}$, avec H son barycentre et \vec{x} le vecteur normal à cette surface.

brevet 094 : Comparaison expérimentale des moments polaires de deux poutres
auteurs : JM Génevaux ; ressource : [?], paragraphe .

Si vous avez du mal à faire ce brevet, je vous invite à lire le paragraphe *Moment quadratique - rayon de giration - produit quadratique d'une aire plane* et de regarder les vidéos afférentes.

Le problème est plan. Soit deux poutres de fibres moyennes reliant les points A et B, qui ont comme coordonnées respectivement $(0,0,0)$ et $(l,0,0)$ dans un repère orthonormé direct $(\vec{i}, \vec{j}, \vec{k})$. Le point A est encasté et le point B est soumis à un couple $C\vec{i}$ (avec $C > 0$).

La première poutre est réalisée par le collage le long de leur génératrice de 7 spaguettis, tel que la section droite est représentée figure ??a. La seconde poutre est réalisée par le collage le long de leur génératrice de 6 spaguettis, tel que la section droite est représentée figure ??b. Pour les fabriquer, nous vous suggérons aux deux extrémités de la poutre, d'insérer un petit bout de spaghetti au centre tel que la longueur soit très inférieure à l : cela permettra de positionner les spaguettis.

L'encastrement et le couple sont appliqués à l'aide de vos mains.

7.3 Cinématique de la section droite

Le plan normal se déforme dans le plan tel que σ_{yy} et σ_{zz} restent nuls, et tel que les contraintes σ_{yx} et σ_{zx} soient nulles sur les bords de la section droite. Cette cinématique (Fig. 7.9) sera étudiée plus avant dans le cours de modélisation [?]. Nous y obtiendrons des facteurs correctifs du moment polaire et des sections équivalentes sous effort tranchant. Ces facteurs correctifs sont détaillés dans les tableaux (et non pas les équations) des figures 7.11 et 7.12. Il en est de même pour la sollicitation de torsion pour laquelle la proportionnalité de la contrainte de cisaillement avec la distance au point H n'est vérifiée que dans le cas d'une poutre de section droite circulaire (Fig. 7.10).

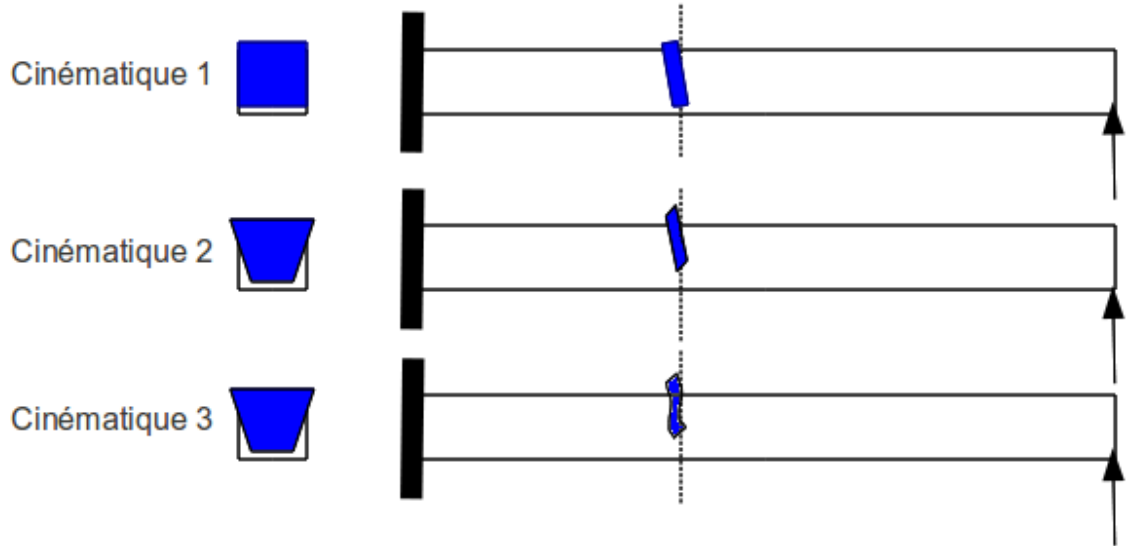


Figure 7.9: Les trois cinématiques des sections droites envisagées, illustrées dans le cas d'une poutre de section droite rectangulaire, sollicitée en flexion et effort tranchant.

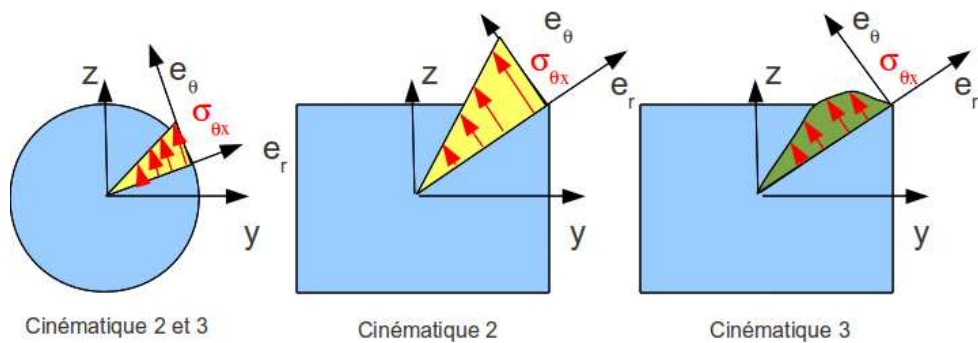


Figure 7.10: Répartition des contraintes de cisaillement dues à une sollicitation de torsion, en fonction de la forme de la section droite et de la cinématique choisie.

$$\begin{bmatrix} N \\ T_y \\ T_z \\ M_x \\ M_{fy} \\ M_{fz} \end{bmatrix} = \begin{bmatrix} ES & 0 & 0 & 0 & 0 & 0 \\ 0 & GS_y & 0 & 0 & 0 & 0 \\ 0 & 0 & GS_z & 0 & 0 & 0 \\ 0 & 0 & 0 & GI_0^c & 0 & 0 \\ 0 & 0 & 0 & 0 & EI_{Hy} & 0 \\ 0 & 0 & 0 & 0 & 0 & EI_{Hz} \end{bmatrix} \begin{bmatrix} \epsilon_x \\ \gamma_y \\ \gamma_z \\ \alpha_x \\ \alpha_y \\ \alpha_z \end{bmatrix}, \quad (7.19)$$

Vous retrouverez dans 6.1 la définition des composantes du tenseur des efforts intérieurs et du tenseur des déformations.

• **Erreur classique :** Ne pas confondre dans la notation ci-dessus, G le module de Coulomb exprimé en [Pa], le centre de gravité de l'ensemble de la poutre G (c'est un point, cela n'a pas d'unité), et le barycentre d'une section droite H (c'est un point, cela n'a pas d'unité).



Pour vérifier que vous avez assimilé ce paragraphe, je vous invite à obtenir le brevet 185. Si vous avez des difficultés, je vous invite à vous appuyer sur le "coup de pouce" qui décrit la démarche théorique à suivre, mais aussi à contacter le référent du brevet.

brevet 185 : Contrainte de cisaillement maximale dans une section droite.

auteur : JM Génevaux ; ressource : [?] ; autoattribution .

Soit une poutre droite de section droite rectangulaire de largeur $b = 0.1$ m dans la direction \vec{z} et de hauteur $h = 0.2$ m dans la direction \vec{y} . Dans une section droite l'effort tranchant est $T_y = 1000$ N.

Faites un dessin de la structure.

Quelle est la contrainte de cisaillement σ_{yx} maximale dans la section droite en utilisant la cinématique avec voilement de la section droite car les contraintes sont non constantes dans la section droite ?

7.3.1 Exemple d'utilisation : sollicitation de traction

Pour une poutre sollicitée en traction-compression, seul l'effort normal N est différent de 0. La loi de comportement de la fibre moyenne 7.19 fournie donc,

$$\begin{bmatrix} \epsilon_x \\ \gamma_y \\ \gamma_z \\ \alpha_x \\ \alpha_y \\ \alpha_z \end{bmatrix} = \begin{bmatrix} N/ES \\ 0 \\ 0 \\ 0 \\ 0 \\ 0 \end{bmatrix}. \quad (7.20)$$

Les composantes du tenseur des déformations $\bar{\epsilon}$ en un point P à la distance y_1 et z_1 de la fibre moyenne, sont alors données par,

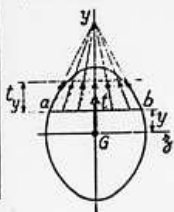
$$\begin{aligned} \epsilon_{xx} &= N/ES, \\ \epsilon_{yy} &= -\nu\epsilon_{xx}, \\ \epsilon_{zz} &= -\nu\epsilon_{xx}, \\ \epsilon_{xy} &= 0, \\ \epsilon_{yz} &= 0, \\ \epsilon_{zx} &= 0. \end{aligned} \quad (7.21)$$

TABLEAU II. — EFFORT TRANCHANT - CONTRAINTES DE CISAILLEMENT

TABLEAU II, 2. — SECTIONS USUELLES - CONTRAINTES DE CISAILLEMENT ET DÉFORMATION DUES A L'EFFORT TRANCHANT - FORMULES APPROCHÉES

Les formules approchées, donnant pour les sections usuelles les valeurs des contraintes de cisaillement et la valeur de la section réduite S_y (intervenant dans le calcul des déformations), ont été déterminées à partir des hypothèses mentionnées dans le tableau II, 1 et des hypothèses supplémentaires suivantes :

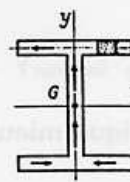
a) Cas des sections pleines.



Le long d'une ligne parallèle à l'axe d'inertie Gz d'ordonnée y , coupant le contour de la section aux deux points a et b :

1. les contraintes de cisaillement, t , passent toutes par le point de concours des deux tangentes en a et b au contour de la section.
2. la composante t_y suivant Gy des contraintes de cisaillement t est constante.

b) Cas des sections minces (fermées ou ouvertes).



La contrainte de cisaillement est tangente en chaque point à la ligne moyenne du profil.

SECTION	CROQUIS	CONTRAINTE DE CISAILLEMENT			DÉFORMATION	
		Hypothèses	Valeur générale	Contrainte maximale	Diagramme	
Triangle isocèle			$t_y = \frac{6T}{S} \left(\frac{1}{3} + \frac{y}{h} \right) \left(\frac{2}{3} - \frac{y}{h} \right)$ $S = \frac{bh^2}{2}$	$t_y = 1,5 \frac{T}{S}$ pour $y = \frac{h}{6}$		
Rectangle			$t_y = \frac{3}{2} \frac{T}{S} \left[1 - \frac{4y^2}{h^2} \right]$ $S = bh$	$t_y = \frac{3}{2} \frac{T}{S}$ pour $y = 0$		$S_y = \frac{5}{6} S$
Losange			$t_y = \frac{T}{S} \left[1 + \frac{y}{h} - \frac{2y^2}{h^2} \right]$ $t_x = t_y \sqrt{1 + \frac{a^2}{4h^2}}$ $S = a \cdot h$	$t_y = \frac{9}{8} \frac{T}{S}$ pour $y = \frac{h}{4}$		$S_y = \frac{30}{31} S$
Carré évidé				$t_y = \frac{3}{2} \frac{T}{S} \frac{1+k+k^3}{1+k^2}$ pour mm		

Figure 7.11: Effet du cisaillement p1

Tableau II, 2. — Sections usuelles - Contraintes de cisaillement et déformation dues à l'effort tranchant - Formules approchées (suite)

SECTION	CROQUIS	CONTRAINTE DE CISAILLEMENT				DÉFORMATION
		Hypothèses	Valeur générale	Contrainte maximale	Diagramme	Valeur de S_1
Hexagone			$t_y = \frac{T}{2,88 h^4} \frac{(h-y)(2h^2 + 3yh - y^2)}{(2h-y)}$ $S = 3,464 h^2$	$t_y = 1,46 \frac{T}{S}$ point A direction AB		
Cercle			$t_y = \frac{4}{3} \frac{T}{S} \left(1 - \frac{y^2}{R^2}\right)$ $t_{en A} = \frac{4}{3} \frac{T}{S} \sqrt{1 - \frac{y^2}{R^2}}$ $S = \pi R^2$	$t_y = \frac{4}{3} \frac{T}{S}$ lc long de CD		$S_1 = \frac{9}{10} S$
Ellipse			$t_y = \frac{4}{3} \frac{T}{S} \left(1 - \frac{y^2}{a^2}\right)$ $S = \pi a b$	$t_y = \frac{4}{3} \frac{T}{S}$ lc long de CD		
Section en I			$t_1 = \frac{6 T e (h - e)}{b h^2 - (b - b') (h - 2e)^2}$ $t_2 = t_1 (b/b')$ $t_3 = \frac{3}{2} \frac{T}{b'h} \frac{b - (b - b') \left(1 - \frac{2e}{h}\right)^2}{b - (b - b') \left(1 - \frac{2e}{h}\right)}$	$t_y = t_2$		
Section circulaire mince			$t_y = \frac{2T}{S} \cos \varphi$ $S = 2 \pi R e$	$t_A = t_B = \frac{2T}{S}$		$S_1 = 0,5 S$
Profil mince en I			$t_{2(A)} = \frac{T}{I} (b - z) h$ $t_{2(B)} = \frac{T}{I e} \left[z b e' h + \frac{e}{2} (h^2 - y^2) \right]$ $S = 2 h e$ $S' = 2 b e' \quad \lambda = \frac{S}{S'}$ $I = \frac{h^2}{3} (S + 6 S')$	$t_{2(A)} = \frac{T}{I} b h$ $t_{2(B)} = \frac{T}{S} \frac{1}{1 + \frac{\lambda}{6}}$ $t_{2(C)} = \frac{T}{S} \frac{1 + \frac{\lambda}{4}}{1 + \frac{\lambda}{6}}$		$S_1 = 2 h e$

Figure 7.12: Effet du cisaillement p2

Les composantes du tenseur des contraintes $\bar{\sigma}$ sont alors données par,

$$\begin{aligned}\sigma_{xx} &= N/S, \\ \sigma_{yy} &= 0, \\ \sigma_{zz} &= 0, \\ \sigma_{xy} &= 0, \\ \sigma_{yz} &= 0, \\ \sigma_{zx} &= 0.\end{aligned}\tag{7.22}$$

On note dans ce cas particulier que les tenseurs des contraintes et des déformations ne dépendent pas de la position du point P par rapport au point H.



Pour vérifier que vous avez assimilé ce paragraphe, je vous invite à obtenir le brevet 054. Si vous avez des difficultés, je vous invite à vous appuyer sur le "coup de pouce" qui décrit la démarche théorique à suivre, mais aussi à contacter le référent du brevet.

brevet 054 : Déformation mesurée sur une poutre en traction
auteur : JM Génevaux ; ressource : [?] ; autoattribution .

Soit une poutre droite de longueur $l = 1$ m, dont la fibre moyenne relie un point A et un point B, de section droite rectangulaire de largeur $b = 0.015$ m dans la direction \vec{z} et de hauteur $h = 0.02(s + 1)$ m dans la direction \vec{y} , avec s l'abscisse d'un point courant de la poutre tel que $A\vec{H} = s\vec{i}$. Les repères locaux $(\vec{x}, \vec{y}, \vec{z})$ et global $(\vec{i}, \vec{j}, \vec{k})$ coïncident. Le point A est encastré, et une force à l'extrémité B implique que l'effort normal dans toute la poutre est $N = 1000$ N. Le module de Young du matériau est $E = 2.1 \cdot 10^{11}$ Pa, son coefficient de Poisson est $\nu = 0.3$.

Si une jauge de déformation est collée sur la surface libre de normale $+\vec{j}$ dans la section droite du point H d'abscisse $s = 0.2$ m, quelle est la déformation mesurée si la jauge est collée dans la direction \vec{i} ? Même question si elle est collée dans la direction \vec{k} ?

7.3.2 flexion simple autour de l'axe $H\vec{z}$

Une poutre est sollicitée en flexion simple autour de l'axe $H\vec{z}$ lorsque M_{fz} et T_y sont différents de 0. La loi de comportement de la fibre moyenne 7.19 fournie donc,

$$\begin{bmatrix} \epsilon_x \\ \gamma_y \\ \gamma_z \\ \alpha_x \\ \alpha_y \\ \alpha_z \end{bmatrix} = \begin{bmatrix} 0 \\ T_y/GS_y \\ 0 \\ 0 \\ 0 \\ M_{fz}/EI_{Hz} \end{bmatrix}.\tag{7.23}$$

Les composantes du tenseur des déformations $\bar{\epsilon}$ en un point P à la distance y_1 et z_1 de la fibre moyenne, sont alors données par,

$$\begin{aligned}\epsilon_{xx}(y_1, z_1) &= -\frac{M_{fz}}{EI_{Hz}} y_1, \\ \epsilon_{yy}(y_1, z_1) &= -\nu\epsilon_{xx}, \\ \epsilon_{zz}(y_1, z_1) &= -\nu\epsilon_{xx}, \\ \epsilon_{xy}(y_1, z_1) &= \frac{T_y}{GS} g(y_1), \\ \epsilon_{yz} &= 0, \\ \epsilon_{zx} &= 0.\end{aligned}\tag{7.24}$$

La répartition des déformations dans l'épaisseur de la poutre n'est pas constante (cinématique 3). La fonction $g(y_1)$ peut être calculée (voir cours de mécanique du solide déformable de L3). C'est la raison pour laquelle il faut corriger la section en cisaillement (S_y) dans la loi de comportement. Des exemples de ces fonctions sont fournies dans les tableaux joints (figures 7.11 7.12).

Les composantes du tenseur des contraintes $\bar{\sigma}$ sont alors données par,

$$\begin{aligned}\sigma_{xx}(y_1, z_1) &= -\frac{Mf_z}{I_{Hz}} y_1, \\ \sigma_{yy} &= 0, \\ \sigma_{zz} &= 0, \\ \sigma_{xy}(y_1, z_1) &= \frac{T_y}{S} g(y_1), \\ \sigma_{yz} &= 0, \\ \sigma_{zx} &= 0,\end{aligned}\tag{7.25}$$

avec $\sigma_{xy}(y_1, z_1) = t_y$ du tableau précédent.

On note dans ce cas particulier que les tenseurs des contraintes et des déformations dépendent de la position du point P par rapport au point H.



Pour vérifier que vous avez assimilé ce paragraphe, je vous invite à obtenir le brevet 186. Si vous avez des difficultés, je vous invite à vous appuyer sur le "coup de pouce" qui décrit la démarche théorique à suivre, mais aussi à contacter le référent du brevet.

brevet 186 : Contraintes en un point d'une poutre en flexion simple.

auteur : JM Géneaux ; ressource : [?] ; autoattribution .

Soit une poutre droite de section droite rectangulaire de largeur $b = 0.1$ m dans la direction \vec{z} et de hauteur $h = 0.2$ m dans la direction \vec{y} . Dans une section droite l'effort tranchant est $T_y = 1000$ [N] et le moment fléchissant autour de l'axe $H\vec{z}$ est $Mf_z = 100$ [N.m].

Faites un dessin de la structure.

Quelles sont les contraintes de traction ou compression σ_{xx1} au point P_1 tel que $\vec{HP}_1 = h/2\vec{y}$ et σ_{xx2} au point P_2 tel que $\vec{HP}_2 = -h/2\vec{y} + b/2\vec{z}$?

7.4 Dimensionnement

Ce paragraphe concerne les étapes mises en gras dans le synopsis figure 7.13.

7.4.1 Cercle de Mohr des contraintes

Voir le cours de Mécanique des solides déformables [?].

7.4.2 Critères de limite d'élasticité

Rappels

Nous ne rappelons ici que quelques définitions.

- Contraintes principales. Le tenseur des contraintes exprimé dans la une base $(\vec{e}_1, \vec{e}_2, \vec{e}_3)$ correspondant aux directions principales a pour forme

$$\bar{\sigma} = \begin{bmatrix} \sigma_1 & 0 & 0 \\ 0 & \sigma_2 & 0 \\ 0 & 0 & \sigma_3 \end{bmatrix}_{(\vec{e}_1, \vec{e}_2, \vec{e}_3) \otimes (\vec{e}_1, \vec{e}_2, \vec{e}_3)}.\tag{7.26}$$

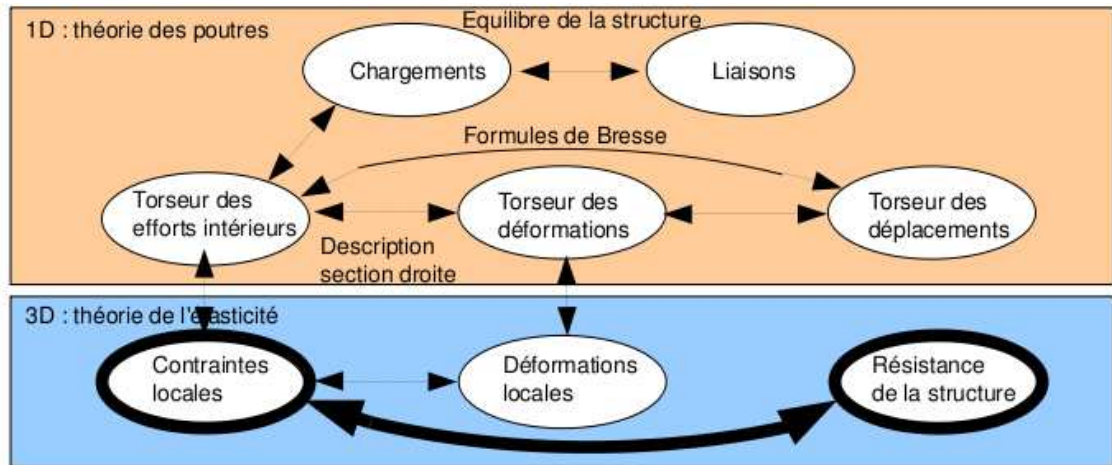


Figure 7.13: Les concepts utiles au passage direct du torseur des efforts intérieurs au torseur de déplacement.

- Les invariants de ce tenseur sont

$$I_1(\bar{\sigma}) = \text{trace}(\bar{\sigma}) = \sigma_1 + \sigma_2 + \sigma_3, \quad (7.27)$$

$$I_2(\bar{\sigma}) = (\text{trace}(\bar{\sigma}))^2 - \text{trace}(\bar{\sigma}^2) = \sigma_1\sigma_2 + \sigma_2\sigma_3 + \sigma_3\sigma_1, \quad (7.28)$$

$$I_3(\bar{\sigma}) = \det(s) = \sigma_1\sigma_2\sigma_3. \quad (7.29)$$

- Les parties sphérique \bar{S} et déviatorique \bar{D} peuvent aussi être calculées :

$$\bar{S} = \frac{1}{3} \text{trace}(\bar{\sigma}) \bar{I}d, \quad (7.30)$$

$$\bar{D} = \bar{\sigma} - \bar{S}, \quad (7.31)$$

avec $\bar{I}d$ le tenseur identité constitué de 1 sur la diagonale.

Critère de Von-Mises

Le critère de Von-Mises est lié à la partie déviatorique du tenseur des contraintes

$$-I_2(\bar{D}) < g^2, \quad (7.32)$$

soit

$$(\sigma_{xx} - \sigma_{yy})^2 + (\sigma_{yy} - \sigma_{zz})^2 + (\sigma_{zz} - \sigma_{xx})^2 + 6(\sigma_{xy} + \sigma_{yz} + \sigma_{zx})^2 < g^2, \quad (7.33)$$

avec g la valeur de contrainte à ne pas dépasser. Dans un espace engendré par les contraintes $(\sigma_1, \sigma_2, \sigma_3)$, la limite de Von Mises est un cylindre d'axe $(1,1,1)$ et de section circulaire de rayon g .

Critère de Tresca

Le vecteur contrainte tangentielle a un module inférieur à une valeur τ . Dans un espace engendré par les contraintes $(\sigma_1, \sigma_2, \sigma_3)$, la limite de Tresca est un cylindre d'axe $(1,1,1)$ et de section hexagonal de côté τ .

Comment choisir entre Tresca et Von Mises, pour dimensionner une structure ? La réponse est dans la vidéo 010 disponible sur <http://umotion.univ-lemans.fr/videos/?tag=010>. Regarde-la, puis évalue son intérêt en entourant son numéro à la dernière page du poly si elle est intéressante, ou en la barrant si elle n'est pas intéressante.

7.4.3 Méthode de calcul : détermination des limites d'élasticité

Lors des travaux pratiques, les charges maximales à appliquer à la structure doivent absolument être calculées avant de faire les essais. L'enseignant, ne vous donnera l'autorisation de charger cette structure que lorsque vous lui aurez fourni les valeurs que vous ne dépasserez pas.

La démarche à suivre est la suivante :

- bilan des actions
- calcul du torseur des efforts intérieurs
- détermination des évolutions de ses composantes le long de la poutre (avec l'abscisse curviligne s) :
 - effort normal : $N(s) =$
 - effort tranchant dans la direction \vec{y} : $T_y(s) =$
 - effort tranchant dans la direction \vec{z} : $T_z(s) =$
 - moment de torsion : $M_x(s) =$
 - moment de flexion autour de l'axe $H\vec{y}$: $M_{fy}(s) =$
 - moment de flexion autour de l'axe $H\vec{z}$: $M_{fz}(s) =$
- recherche du point le plus sollicité : Les critères de limite d'élasticité s'écrivant en élasticité, il faudrait calculer le tenseur des contraintes en tout point P et lui appliquer un critère (par exemple de Von-Mises pour de l'acier). On peut simplifier le critère dans quelques cas particuliers :

- **si la poutre est soumise à de la flexion M_{fz} , de l'effort tranchant T_y et de l'effort normal N** , la contrainte en un point P de la section droite tel que $\vec{HP} = \hat{y}\vec{y} + \hat{z}\vec{z}$ est donnée par :

$$\sigma_{xx}(s, \hat{y}) = \frac{N(s)}{S(s)} - \frac{M_{fz}(s)\hat{y}}{I_{Hz}(s)}. \quad (7.34)$$

- **si la poutre est soumise à de la flexion M_{fy} , de l'effort tranchant T_z et de l'effort normal N** , la contrainte en un point P de la section droite tel que $\vec{HP} = \hat{y}\vec{y} + \hat{z}\vec{z}$ est donnée par :

$$\sigma_{xx}(s, \hat{z}) = \frac{N(s)}{S(s)} + \frac{M_{fy}(s)\hat{z}}{I_{Hy}(s)}. \quad (7.35)$$

Attention à l'inversion de signe dans le calcul de la contrainte qui est simplement dû au fait que le repère local est direct.

Il faut rechercher le maximum et le minimum de σ_{xx} qui se situent sur une fibre appartenant à la surface latérale de la poutre. On considérera donc les demi-épaisseurs de la poutre $\hat{y}_{maxi} = h(s)/2$ ou $\hat{y}_{maxi} = -h(s)/2$.

Dans le cas où les limites d'élasticité en traction et compression sont les mêmes, par exemple,

- pour de l'acier à -240 [MPa] ; σ_{xx} ; 240 [MPa]
- pour de l'aluminium et ses alliages à -80 [MPa] ; σ_{xx} ; 80 [MPa],

il est possible de vérifier que la valeur absolue de σ_{xx} reste inférieure à la limite d'élasticité σ_{ce} .

Dans le cas où les limites d'élasticité en traction et compression sont différentes, par exemple,

- pour du béton à -18 [MPa] ; σ_{xx} ; 18/11 [MPa],
- pour du bois dans le sens des fibres (direction longitudinale du tronc) à -20 [MPa] ; σ_{xx} ; 50 [MPa],

il faut vérifier les contraintes sur la fibre supérieure et la fibre inférieure en tenant compte du signe. Le lieu où la contrainte atteint en premier sa limite d'élasticité indique si la rupture apparaît d'abord en compression ou en traction.

Pour les autres matériaux, consultez les tableaux affichés en salle tp.

Où sont les fibres supérieure et inférieure ? La réponse est dans la vidéo 291 disponible sur

<http://umotion.univ-lemans.fr/videos/?tag=291>. Regarde-la, puis évalue son intérêt en entourant son numéro à la dernière page du poly si elle est intéressante, ou en la barrant si elle n'est pas intéressante.

Pourquoi dans la capacité bleue, on a besoin d'une fibre supérieure et d'une fibre inférieure ? La réponse est dans la vidéo 541 disponible sur

<http://umotion.univ-lemans.fr/videos/?tag=541>. Regarde-la, puis évalue son intérêt en entourant son numéro à la dernière page du poly si elle est intéressante, ou en la barrant si elle n'est pas intéressante.

si la poutre est soumise à de la torsion pure M_x , et que la section est circulaire de rayon $r(s)$, alors la contrainte est une contrainte de cisaillement. Elle est donnée en un point P de la section droite tel que $\vec{HP} = \hat{r}\vec{e}_r$ par,

$$\sigma_{x\theta}(s, \hat{r}) = \frac{M_x(s)\hat{r}}{I_0(s)}. \quad (7.36)$$

Sa valeur maximale est donnée pour $\hat{r} = r(s)$. On se limitera :

- pour de l'acier à $-240/2$ [MPa] ; σ_{xx} ; $240/2$ [MPa] ,
- pour de l'aluminium et ses alliages $-80/2$ [MPa] ; σ_{xx} ; $80/2$ [MPa] ,

Pour les autres matériaux, consultez les tableaux affichés en salle tp.

Comment chercher le point le plus sollicité ? La réponse est dans la vidéo 265 disponible sur <http://umotion.univ-lemans.fr/videos/?tag=265>. Regarde-la, puis évalue son intérêt en entourant son numéro à la dernière page du poly si elle est intéressante, ou en la barrant si elle n'est pas intéressante.

La charge maximale en torsion est différente si la section est carrée. Pourquoi ? La réponse est dans la vidéo 304 disponible sur

<http://umotion.univ-lemans.fr/videos/?tag=304>. Regarde-la, puis évalue son intérêt en entourant son numéro à la dernière page du poly si elle est intéressante, ou en la barrant si elle n'est pas intéressante.

dans le cas d'un point P où sont présentes une contrainte normale σ_{xx} et une contrainte de cisaillement $\sigma_{x\theta}$, alors on calculera une contrainte équivalente (de Tresca),

$$\sigma_{equiv} = \sqrt{\sigma_{xx}^2 + 4\sigma_{x\theta}^2}. \quad (7.37)$$

Sa valeur doit être telle que :

- pour de l'acier σ_{equiv} ; 240 [MPa] ,
- pour de l'aluminium σ_{equiv} ; 80 [MPa] ,

7.4.4 Exemple de calcul

Soit une poutre droite $AB = l\vec{i}$ (avec $l = 0.2$ m), encadrée au point A et chargée par un effort $F\vec{j}$ en B , de section circulaire de rayon $r = 0.005$ m, en acier. Calculez la force F maximale admissible par la structure.

- bilan des actions :

une liaison encastrement en A $\left\{ \begin{array}{c} \vec{R}_1 \\ \vec{M}_1 \end{array} \right\}_A$;

un torseur de chargement $\left\{ \begin{array}{c} F\vec{j} \\ \vec{0} \end{array} \right\}_B$

- calcul du torseur des efforts intérieurs : on oriente la poutre de A vers B . Le torseur des efforts intérieurs en $H(s)$ tel que $A\vec{H} = s\vec{i}$, se calcule en fonction de la partie aval :

$$\{\tau_H\} = \left\{ \begin{array}{c} F\vec{j} \\ \vec{0} \end{array} \right\}_B = \left\{ \begin{array}{c} F\vec{j} \\ F(l-s)\vec{k} \end{array} \right\}_H = \left\{ \begin{array}{c} F\vec{y} \\ F(l-s)\vec{z} \end{array} \right\}_H, \quad (7.38)$$

avec $(H, \vec{x}, \vec{y}, \vec{z})$ le repère local en H .

- détermination des évolutions de ses composantes le long de la poutre (avec l'abscisse s) :

- effort normal : $N(s) = 0$
- effort tranchant dans la direction \vec{y} : $T_y(s) = F$
- effort tranchant dans la direction \vec{z} : $T_z(s) = 0$
- moment de torsion : $M_x(s) = 0$
- moment de flexion autour de l'axe $H\vec{y}$: $M_{fy}(s) = 0$
- moment de flexion autour de l'axe $H\vec{z}$: $M_{fz}(s) = F(l-s)$

- recherche du point le plus sollicité :

La poutre est soumise à de la flexion M_{fz} de l'effort tranchant T_y , la contrainte en un point P de la section droite tel que $H\vec{P} = \hat{y}\vec{y} + \hat{z}\vec{z}$ est donnée par :

$$\sigma_{xx}(s, \hat{y}) = -\frac{F(l-s)\hat{y}}{\pi r^4/4}. \quad (7.39)$$

Il faut rechercher le maximum et le minimum de σ_{xx} . On considérera donc les demi-épaisseurs de la poutre $\hat{y}_{maxi} = r$ ou $\hat{y}_{maxi} = -r$. On obtient donc :

$$\sigma_{xx}(0, -r) = \frac{Flr}{\pi r^4/4} = \frac{4Fl}{\pi r^3}, \quad (7.40)$$

d'où,

$$F < \frac{240 \cdot 10^6 \text{ Pa} \pi r^3}{4l}. \quad (7.41)$$

Soit pour une poutre de rayon $r = 0.005$ m et une longueur de $l = 0.2$ m, une force maximale admissible de $F = 118$ N.

Formation à la compétence verte de statique des poutres droites.

Chapter 8

Déplacement et rotation d'un point d'une poutre droite

8.1 Formules de Bresse

Ce paragraphe concerne les étapes mises en gras dans le synopsis figure 8.1.

Utilité : L'utilisation des Formules de Bresse, permet de résoudre des problèmes :

- dans l'espace tridimensionnel,
- pour des poutres dont la ligne moyenne n'est pas rectiligne.

C'est leur généralité qui leur donne toute leur force. Elles sont donc étudiées dans ce cours plutôt que se limiter aux méthodes associées uniquement aux poutres droites qui utilisent des formules du type $EI_{Hz} \frac{d^2 y}{dx^2} = M_{fz}$.

Les formules de Bresse peuvent être construites par approche successive. Soit une poutre reliant un point A à un point B, orientée de A vers B, le point courant étant noté H.

- Supposons que cette poutre soit infiniment rigide. Si le point A subit un torseur de déplacement composé d'un angle de rotation $\check{\omega}_A$ et d'une translation \vec{u}_A , alors le torseur de déplacement au point B est obtenu par la formule de changement de point.

$$\check{\omega}_B = \check{\omega}_A, \quad (8.1)$$

$$\vec{u}_B = \vec{u}_A + \check{\omega}_A \wedge \vec{AB}. \quad (8.2)$$

- Supposons cette fois que le point A est immobile mais que seul se déforme un petit tronçon HH' de longueur ds à partir du point H. Le torseur de déplacement de H' est composé de $\check{\omega}_{H'} = (\alpha_x \check{x} + \alpha_y \check{y} + \alpha_z \check{z}) ds$ et d'une translation $\vec{u}_{H'} = (\epsilon_x \vec{x} + \gamma_y \vec{y} + \gamma_z \vec{z}) ds$. La déformation de ce petit segment implique un torseur de déplacement au point B :

$$\check{\omega}_B = (\alpha_x \check{x} + \alpha_y \check{y} + \alpha_z \check{z}) ds, \quad (8.3)$$

$$\vec{u}_B = (\epsilon_x \vec{x} + \gamma_y \vec{y} + \gamma_z \vec{z}) ds + (\alpha_x \check{x} + \alpha_y \check{y} + \alpha_z \check{z}) ds \wedge \vec{HB}. \quad (8.4)$$

- Supposons cette fois que le point A est mobile et que toute la poutre se déforme. Il suffit de faire la somme des torseurs : du premier et du second que l'on aura intégré le long de toute la poutre AB. On obtient les formules de Bresse ci-dessous.

Soit une poutre dont l'orientation de la fibre moyenne est de P_{deb} à P_{fin} , si le torseur des déformations est noté,

$$\{Def_H\} = \left\{ \begin{array}{l} \alpha_x \check{x} + \alpha_y \check{y} + \alpha_z \check{z} \\ \epsilon_x \vec{x} + \gamma_y \vec{y} + \gamma_z \vec{z} \end{array} \right\} = \left\{ \begin{array}{l} M_x/GI_0^c \check{x} + M_{f_y}/EI_{H_y} \check{y} + M_{f_z}/EI_{H_z} \check{z} \\ N/ES \vec{x} + T_y/GS_y \vec{y} + T_z/GS_z \vec{z} \end{array} \right\}_H, \quad (8.5)$$

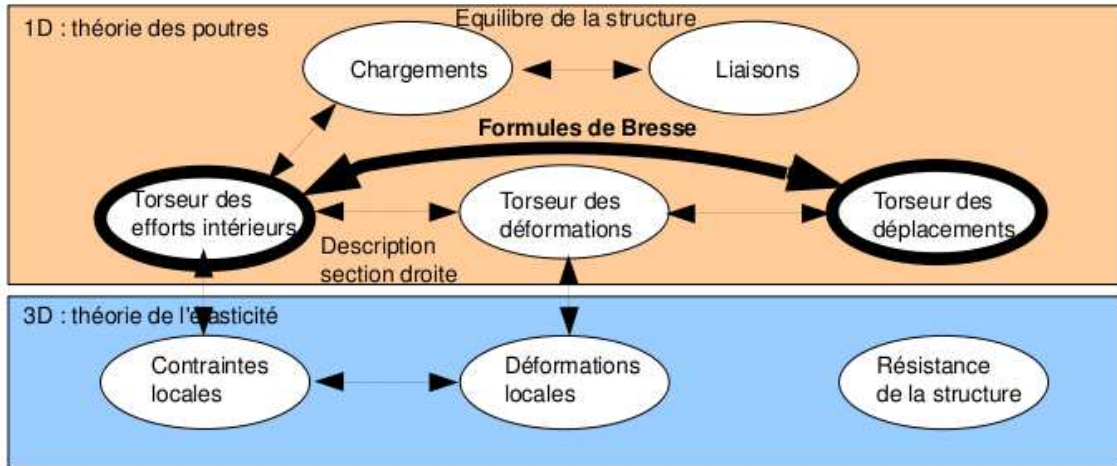


Figure 8.1: Les concepts utiles au passage direct du torseur des efforts intérieurs au torseur de déplacement.

avec le module de Coulomb G donné par (Eq. ??)

$$G = \frac{E}{2(1 + \nu)}. \quad (8.6)$$

Alors le torseur de déplacement au point P_{fin} par rapport au torseur de déplacement du point P_{deb} est,

$$\begin{aligned} \{U_{P_{fin}}\} &= \left\{ \begin{array}{l} \tilde{\omega}_{P_{fin}} \\ \vec{u}_{P_{fin}} \end{array} \right\}_{P_{fin}} \\ &= \left\{ \begin{array}{l} \tilde{\omega}_{P_{deb}} + \int_{s_{P_{deb}}}^{s_{P_{fin}}} (\alpha_x \tilde{x} + \alpha_y \tilde{y} + \alpha_z \tilde{z}) ds \\ \vec{u}_{P_{deb}} + \omega_{P_{deb}} \wedge P_{deb} \vec{P}_{fin} + \int_{s_{P_{deb}}}^{s_{P_{fin}}} (\epsilon_x \tilde{x} + \gamma_y \tilde{y} + \gamma_z \tilde{z}) ds \\ \quad + \int_{s_{P_{deb}}}^{s_{P_{fin}}} (\alpha_x \tilde{x} + \alpha_y \tilde{y} + \alpha_z \tilde{z}) \wedge \vec{H} \vec{P}_{fin} ds \end{array} \right\}_{P_{fin}} \\ &= \left\{ \begin{array}{l} \tilde{\omega}_{P_{deb}} + \int_{s_{P_{deb}}}^{s_{P_{fin}}} (M_x/GI_0^c \tilde{x} + M_f y/EI_{Hy} \tilde{y} + M_f z/EI_{Hz} \tilde{z}) ds \\ \vec{u}_{P_{deb}} + \tilde{\omega}_{P_{deb}} \wedge P_{deb} \vec{P}_{fin} + \int_{s_{P_{deb}}}^{s_{P_{fin}}} (N/ES \tilde{x} + T_y/GS_y \tilde{y} + T_z/GS_z \tilde{z}) ds \\ \quad + \int_{s_{P_{deb}}}^{s_{P_{fin}}} (M_x/GI_0^c \tilde{x} + M_f y/EI_{Hy} \tilde{y} + M_f z/EI_{Hz} \tilde{z}) \wedge \vec{H} \vec{P}_{fin} ds \end{array} \right\}_{P_{fin}} \quad (8.7) \end{aligned}$$

Dans la formule de Bresse, les sections corrigées S_y et S_z sont indiquées dans la figure 7.11, dans l'avant dernière colonne. Elles diffèrent en fonction de la forme de la section droite.

Pourquoi doit-on utiliser dans les formules de Bresse, les valeurs corrigées des aires des sections et du moment polaire ? La réponse est dans la vidéo 008 disponible sur <http://umotion.univ-lemans.fr/videos/?tag=008>. Regarde-la.

A quel moment a-t-on un angle de rotation non nul dans la formule de Bresse? A quoi correspond-t-il exactement ? La réponse est dans la vidéo 307 disponible sur <http://umotion.univ-lemans.fr/videos/?tag=307>. Regarde-la.

Comment utilise-t-on de façon efficace les formules de Bresse ? La réponse est disponible sur <http://umotion.univ-lemans.fr/videos/?tag=545>. Regarde-la, puis évalue son intérêt.

Les formules de Bresse ci-dessus sont relatifs à la cinématique 3. Nous rappelons ci-dessous, les formules de Bresse pour la cinématique 2 qui en prend pas en compte le voilement de la section et qui ne diffèrent que par 3 termes :

$$\begin{aligned} \{U_{Pfin}\} &= \left\{ \begin{array}{l} \vec{\omega}_{Pfin} \\ \vec{u}_{Pfin} \end{array} \right\} \\ &= \left. \begin{array}{l} \vec{\omega}_{Pdeb} + \int_{s_{Pdeb}}^{s_{Pfin}} (M_x/GI_0 \vec{x} + Mf_y/EI_{Hy} \vec{y} + Mf_z/EI_{Hz} \vec{z}) ds \\ \vec{u}_{Pdeb} + \vec{\omega}_{Pdeb} \wedge P_{deb} \vec{P}_{fin} + \int_{s_{Pdeb}}^{s_{Pfin}} (N/ES \vec{x} + T_y/GS \vec{y} + T_z/GS \vec{z}) ds \\ + \int_{s_{Pdeb}}^{s_{Pfin}} (M_x/GI_0 \vec{x} + Mf_y/EI_{Hy} \vec{y} + Mf_z/EI_{Hz} \vec{z}) \wedge \vec{H} \vec{P}_{fin} ds \end{array} \right\}_{Pfin} \quad (8.8) \end{aligned}$$

• **Erreur classique la plus souvent commise (une seule fois... après vous ne le ferez plus !)** : Les formules de Bresse sont écrites dans le repère local. Lorsque vous faites les calculs et que l'on vous demande à la fin les valeurs de déplacement ou de rotation dans le repère global, il est nécessaire de refaire le changement de repère. Si la poutre est avec un repère local qui dépend continûment de s , alors exprimez le repère local dans le repère global, puis faite l'intégration.

• **Erreur classique** : Une fois les formules de Bresse utilisées, votre résultat ne doit plus faire apparaître les coordonnées du point H . Si c'est le cas, c'est que vous n'avez pas effectué l'intégration entre les abscisses s_{Pdeb} et s_{Pfin} .

• **Erreur classique** : Si dans un problème donné, le déplacement en P_{fin} est connu et que vous recherchez le déplacement en P_{deb} , écrivez la formule de Bresse comme ci-dessus, puis passer les termes complémentaires à \vec{u}_{Pfin} de l'autre coté de l'égalité.

• **Erreur classique** : Si vous utilisez les formules de Bresse entre un point s_{Pdeb} et s_{Pfin} et que vous devez couper l'intégrale en deux en passant par un point s_{Pint} (comme "intermédiaire", la formule de Bresse en déplacement s'écrit :

$$\begin{aligned} \vec{u}_{Pfin} &= \vec{u}_{Pdeb} + \vec{\omega}_{Pdeb} \wedge P_{deb} \vec{P}_{fin} \\ &+ \int_{s_{Pdeb}}^{s_{Pint}} (N/ES \vec{x} + T_y/GS_y \vec{y} + T_z/GS_z \vec{z}) ds \\ &+ \int_{s_{Pdeb}}^{s_{Pint}} (M_x/GI_0^c \vec{x} + Mf_y/EI_{Hy} \vec{y} + Mf_z/EI_{Hz} \vec{z}) \wedge \vec{H} \vec{P}_{fin} ds \\ &+ \int_{s_{Pint}}^{s_{Pfin}} (N/ES \vec{x} + T_y/GS_y \vec{y} + T_z/GS_z \vec{z}) ds \\ &+ \int_{s_{Pint}}^{s_{Pfin}} (M_x/GI_0^c \vec{x} + Mf_y/EI_{Hy} \vec{y} + Mf_z/EI_{Hz} \vec{z}) \wedge \vec{H} \vec{P}_{fin} ds. \quad (8.9) \end{aligned}$$

Vous noterez bien que le vecteur après le produit vectoriel reste $\vec{H} \vec{P}_{fin}$ dans les deux intégrales.



Pour vérifier que vous avez assimilé ce paragraphe, je vous invite à obtenir le brevet 093, 042, 095, 050, 089, 051, 052 et 096. Si vous avez des difficultés, je vous invite à vous appuyer sur le "coup de pouce" qui décrit la démarche théorique à suivre, mais aussi à contacter le référent du brevet.

brevet 093 : Comparaison expérimentale des moments quadratiques d'une poutre

auteurs : JM Génevaux ; ressource : [?], paragraphe .

Le problème est plan. Soit une poutre reliant les points A, B et C, qui ont comme coordonnées respectivement $(0,0,0)$, $(l/2,0,0)$ et $(l,0,0)$ dans un repère orthonormé direct $(\vec{i}, \vec{j}, \vec{k})$. Les points A et B sont sur des appuis sur rouleau de normale \vec{j} , le point C chargé par une force $-F\vec{j}$ (avec $F > 0$). La poutre est réalisée par le collage le long de leur génératrice de 8 spaguettis, tel que la section droite soit un assemblage de 4 x 2 spaguettis. Les appuis sur rouleau sont réalisés par le contact entre la poutre et deux cylindres. Le chargement est réalisé par un doigt.

La rigidité de la structure est-elle plus grande lorsque la grande hauteur de la section droite (4 spaguettis) est parallèle au chargement ?

brevet 042 : Raideur d'un plot en compression posé sur un plan parfaitement lubrifié

auteur : JM Génevaux ; ressource : [?] ; autoattribution .

Soit un cylindre de direction \vec{j} , de section droite circulaire de diamètre $d = 10$ mm, en aluminium AU4G, de longueur $l = 50$ mm. Ce plot est soumis à une force $\vec{F} = -200\vec{j}$ sur sa surface supérieure. Sa surface inférieure est bloquée en translation dans la direction \vec{j} par une surface parfaitement lubrifiée. Sous cette charge, la surface supérieure se déplace d'une valeur $\vec{u} = -u\vec{j}$.

Quelle est la rigidité $k = F/u$ de ce plot ?

brevet 095 : Comparaison expérimentale des rigidités de deux plots en fonction de leur cinématiques possibles

auteurs : JM Génevaux ; ressource : [?], paragraphe .

Le problème est plan tel que représenté figure 8.2. Soit deux poutres de fibres moyennes reliant les points A et B, qui ont comme coordonnées respectivement $(0,0,0)$ et $(0,l,0)$ dans un repère orthonormé direct $(\vec{i}, \vec{j}, \vec{k})$. Le point A est encasté et le point B est soumis à une force $-F\vec{j}$ (avec $F > 0$). Les poutres sont en caoutchouc, ou en flamby, ou en flan pâtisseries maison. L'une d'elle est insérée dans un cylindre creux parfaitement ajusté et lubrifié, l'autre est libre de se dilater. Les forces égales sont réalisées en posant de façon bien symétrique une masse.

Après chargement, la masse est-elle inclinée (contractions différentes des deux plots) ?

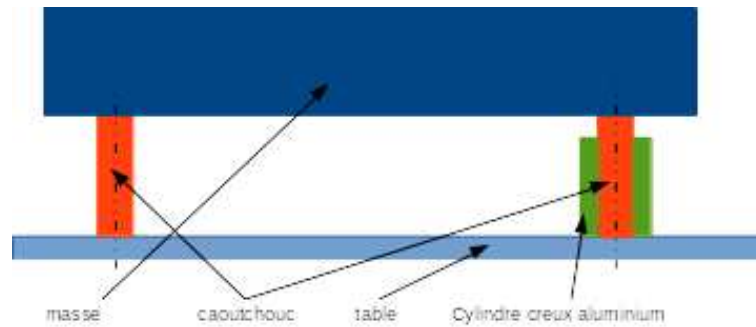


Figure 8.2: Un montage de test de la dépendance de la rigidité à la cinématique possible de section droite.

brevet 050 : Déplacement pour une poutre en traction

auteur : JM Géneaux ; ressource : [?] ; autoattribution .

Soit une poutre droite de longueur $l = 1$ m, dont la fibre moyenne relie un point A et un point B, de section droite rectangulaire de largeur $b = 0.1$ m dans la direction \vec{z} et de hauteur $h = 0.2(s + 1)$ m dans la direction \vec{y} , avec s l'abscisse d'un point courant de la poutre tel que $\vec{AH} = s\vec{i}$. Les repères locaux $(\vec{x}, \vec{y}, \vec{z})$ et global $(\vec{i}, \vec{j}, \vec{k})$ coïncident. Le point A est encastré, et une force à l'extrémité B implique que l'effort normal dans toute la poutre est $N = 1000$ N. Le module de Young du matériau est $E = 2.1 \cdot 10^{11}$ Pa.

Quel est le déplacement du point B ?

brevet 089 : Formule de Bresse et intégration

auteurs : B Brouard et JM Géneaux ; ressource : [?], paragraphe .

Le problème est plan. Soit une poutre reliant les points A, B et D, qui ont comme coordonnées respectivement $(0,0,0)$, $(0.1,0,0)$ et $(0.2,0.1,0)$ en m dans un repère orthonormé direct $(\vec{i}, \vec{j}, \vec{k})$. On oriente la poutre de A vers D. Le point A est encastré, le point D chargé par une force $10\vec{i}$ N. La poutre est de section circulaire de diamètre $d = 0.005$ m, en acier de module de Young $E = 2.1 \cdot 10^{11}$ Pa.

Si l'on note H_1 un point courant de AB tel que $\vec{AH}_1 = s_1\vec{i}$, les composantes du torseur des efforts intérieurs sont $N_1 = 10$ N, $T_{y1} = 0$ N et $M_{fz1} = -1$ N.m.

Si l'on note H_2 un point courant de BD tel que $\vec{BH}_2 = s_2 \left(\frac{\vec{i}}{\sqrt{2}} + \frac{\vec{j}}{\sqrt{2}} \right)$ alors les composantes du torseur des efforts intérieurs sont $N_2 = 10/\sqrt{2}$ N, $T_{y2} = -10/\sqrt{2}$ N et $M_{fz2} = -(\sqrt{2} - 10s_2)/\sqrt{2}$ N.m.

Faites un dessin de la structure, placez le repère global, les points, les éventuels repères locaux, les liaisons et les chargements.

Quel est le déplacement du point D exprimé dans la base (\vec{i}, \vec{j}) ?

brevet 051 : Déplacement pour une poutre en flexion dû au moment fléchissant

auteur : JM Génevaux ; ressource : [?] ; autoattribution .

Soit une poutre droite de longueur $l = 1$ m, dont la fibre moyenne relie un point A et un point B, de section droite rectangulaire de largeur $b = 0.15$ m dans la direction \vec{z} et de hauteur $h = 0.02(s+1)$ m dans la direction \vec{y} , avec s l'abscisse d'un point courant de la poutre tel que $\vec{AH} = s\vec{i}$. Les repères locaux $(\vec{x}, \vec{y}, \vec{z})$ et global $(\vec{i}, \vec{j}, \vec{k})$ coïncident. Le point A est encastré, et une force à l'extrémité B dans la direction \vec{j} implique que l'effort tranchant $T_y = 1000$ N et un moment fléchissant $Mf_z(s) = 1000(l - s)$ Nm. Le module de Young du matériau est $E = 2.1 \cdot 10^{11}$ Pa.

Faites un dessin de la structure, placez le repère global, les points, les éventuels repères locaux, les liaisons et les chargements.

Quel est le déplacement dans la direction \vec{j} du point B dû au moment fléchissant ?

brevet 052 : Déplacement pour une poutre en flexion dû à l'effort tranchant dans le cas de la cinématique 3 (avec voilement de la section droite)

auteur : JM Génevaux ; ressource : [?] ; autoattribution .

Soit une poutre droite de longueur $l = 1$ m, dont la fibre moyenne relie un point A et un point B, de section droite rectangulaire de largeur $b = 0.15$ m dans la direction \vec{z} et de hauteur $h = 0.02(s+1)$ m dans la direction \vec{y} , avec s l'abscisse d'un point courant de la poutre tel que $\vec{AH} = s\vec{i}$. Les repères locaux $(\vec{x}, \vec{y}, \vec{z})$ et global $(\vec{i}, \vec{j}, \vec{k})$ coïncident. Le point A est encastré, et une force à l'extrémité B dans la direction \vec{j} implique que l'effort tranchant $T_y = 1000$ N et un moment fléchissant $Mf_z(s) = 1000(l - s)$ N.m. Le module de Young du matériau est $E = 2.1 \cdot 10^{11}$ Pa, son coefficient de Poisson est $\nu = 0.3$.

Faites un dessin de la structure, placez le repère global, les points, les éventuels repères locaux, les liaisons et les chargements.

Quel est le déplacement dans la direction \vec{j} du point B dû à l'effort tranchant dans le cas de la cinématique 3 ?

brevet 096 : Déterminations expérimentales du lieu de déplacement maximal et du lieu de rupture

auteurs : JM Génevaux ; ressource : [?], paragraphe .

Le problème est plan. Soit une poutre reliant les points A, B et C, qui ont comme coordonnées respectivement $(0,0,0)$, $(l/3,0,0)$ et $(l,0,0)$ dans un repère orthonormé direct $(\vec{i}, \vec{j}, \vec{k})$. Le point A est encastré, le point B chargé par une force $-F\vec{j}$ (avec $F > 0$).

Expérimentalement, la poutre est réalisée avec un spaghetti, l'encastrement à l'aide de deux parallélépipèdes, le chargement par votre doigt.

Quel est le point de déplacement maximum ? Quel est le point où se produit la rupture ?

8.2 Résolutions de problèmes

Si l'objectif est de calculer un déplacement (ou une rotation) d'un point de la poutre, il faut :

- choisir un point de départ où le déplacement et/ou la rotation est connue
- orienter la poutre du point de départ au point où s'effectue la recherche de déplacement
- écrire la ou les formules de Bresse nécessaires
- identifier les composantes du torseur des efforts intérieurs qui doivent être calculées, et sur quel segment,
- calculer ces composantes en fonction du chargement (et des éventuelles inconnues hyperstatiques (en vert)). Le choix judicieux du secteur aval ou amont peut parfois permettre d'éviter de calculer les réactions aux liaisons.
- deux cas sont possibles :
 - le système est hyperstatique
 - * il faut écrire une équation supplémentaire : elle concerne le degré de liberté dual de l'inconnue hyperstatique (en vert).
 - * Si c'est une force dans une direction, c'est le déplacement dans cette direction. Si c'est un moment autour d'un axe, c'est la rotation autour de cet axe.
 - * Calculer (comme ci-dessus par les formules de Bresse ou une méthode énergétique) le déplacement recherché (ou la rotation recherchée). Ceci vous donne une équation supplémentaire qui lie l'inconnue hyperstatique (en vert) aux chargements (en rouge).
 - * Remplacer dans les expressions des composantes d'effort intérieur, l'inconnue hyperstatique (en vert) par son expression en fonction du chargement,
 - si le système est isostatique, les composantes du torseur des efforts intérieurs sont alors connues en fonction uniquement des chargements (en rouge).
- injecter ces expressions dans les formules de Bresse,
- faire les intégrales



Pour vérifier que vous avez assimilé ce paragraphe, je vous invite à obtenir les brevets 075. Si vous avez des difficultés, je vous invite à vous appuyer sur le "coup de pouce" qui décrit la démarche théorique à suivre, mais aussi à contacter le référent du brevet.

brevet 075 : Démarche générale de résolution d'un problème de déplacement en théorie des poutres

auteur : JM Génevaux ; ressource : [?] ; autoattribution .

Soit un crochet fixé au plafond, représenté par une poutre en acier de diamètre d , composé d'un segment droit reliant les points A et B , puis d'un segment d'arc de cercle de rayon r reliant les points B C et D . On appellera O le centre du cercle. Les coordonnées des points dans un repère (O, \vec{i}, \vec{j}) sont $A(0, r + l)$, $B(0, r)$, $C(0, -r)$, $D(-r, 0)$. Une force $\vec{F} = -F\vec{j}$ est exercée en C .

Donnez la démarche pour calculer le déplacement du point C (ne pas faire les calculs).

8.2.1 Résolution par superposition

Hypothèses

Pour que le principe de superposition soit valide, il faut que la loi de comportement du matériau utilisé soit linéaire et que les déplacements soient petits devant les dimensions de la structure. Cette deuxième condition s'exprime plus précisément par le fait qu'il faut que le torseur des efforts intérieurs ne varie que de façon négligeable s'il est calculé pour la poutre dans sa configuration initiale et s'il est calculé dans sa configuration déformée.

Enoncé

Soit une structure élastique linéaire, sous un ensemble de chargements $\{\tau_1\}$ cette structure subit un champs de déplacement $\{U_1\}$, sous un ensemble de chargements $\{\tau_2\}$ cette structure subit un champs de déplacement $\{U_2\}$, alors si elle est chargée simultanément par $\{\tau_1\} + \{\tau_2\}$, son champs de déplacement est $\{U_1\} + \{U_2\}$.

Exemple

Soit une poutre droite de longueur $l = 1$ m, de moment quadratique $I_{Hz} = 1 \cdot 10^{-8} \text{ m}^4$ autour de l'axe $H\vec{z}$, reliant les points A et B, tel que $\vec{AP} = l\vec{i}$ et que le point A est encasté.

- Cette poutre sous une charge en B $\vec{F} = 100\vec{j}$ N, subit un déplacement en B qui vaut $\vec{u}_B = 0.0159\vec{j}$ m.
- Cette poutre sous un couple $\vec{C} = 100\vec{k}$ N.m en D, milieu de [AB], subit un déplacement en B qui vaut $\vec{u}_B = 0.0179\vec{j}$ m.

Sous les deux chargements, le déplacement du point B vaut $\vec{u}_B = 0.0338\vec{j}$ m.



Pour vérifier que vous avez assimilé ce paragraphe, je vous invite à obtenir les brevets 056, 074, 097 et 057. Si vous avez des difficultés, je vous invite à vous appuyer sur le "coup de pouce" qui décrit la démarche théorique à suivre, mais aussi à contacter le référent du brevet.

brevet 056 : Le principe de superposition est-il applicable ?
auteur : JM Génevaux ; ressource : [?] ; autoattribution .

Soit une poutre droite de longueur $l = 1$ m, dont la fibre moyenne relie un point A et un point B, de section droite rectangulaire de largeur $b = 0.015$ m dans la direction \vec{z} et de hauteur $h = 0.02$ m dans la direction \vec{y} , avec s l'abscisse d'un point courant de la poutre tel que $\vec{AH} = s\vec{i}$. Les repères locaux $(\vec{x}, \vec{y}, \vec{z})$ et global $(\vec{i}, \vec{j}, \vec{k})$ coïncident. Le point A est encasté. Un premier chargement est constitué d'une force à l'extrémité B $\vec{F}_1 = 100\vec{j}$. Un second chargement est constitué d'une force à l'extrémité B $\vec{F}_2 = -1000\vec{j}$. Le module de Young du matériau est $E = 2.1 \cdot 10^{11}$ Pa.

Faites un dessin de la structure, placez le repère global, les points, les éventuels repères locaux, les liaisons et les chargements.
En calculant le déplacement en bout de poutre, dites si les hypothèses du principe de superposition sont vérifiées dans ce cas ?

brevet 074 : Le principe de superposition est-il applicable ? (version 2)

auteur : JM Génevaux ; ressource : [?] ; autoattribution .

Soit une poutre droite de longueur $l = 1$ m, dont la fibre moyenne relie un point A et un point B, de section droite rectangulaire de largeur $b = 0.015$ m dans la direction \vec{z} et de hauteur $h = 0.02$ m dans la direction \vec{y} , avec s l'abscisse d'un point courant de la poutre tel que $\vec{AH} = s\vec{i}$. Les repères locaux $(\vec{x}, \vec{y}, \vec{z})$ et global $(\vec{i}, \vec{j}, \vec{k})$ coïncident. Le point A est encastré. Un premier chargement est constitué d'une force à l'extrémité B $\vec{F}_1 = 1000\vec{i}$. Un second chargement est constitué d'une force à l'extrémité B $\vec{F}_2 = -100\vec{j}$. Le module de Young du matériau est $E = 2.1 \cdot 10^{11}$ Pa.

Faites un dessin de la structure, placez le repère global, les points, les éventuels repères locaux, les liaisons et les chargements.

En calculant le moment en A dans la configuration de référence et dans la configuration déformée, dites si les hypothèses du principe de superposition sont vérifiées dans ce cas ?

brevet 097 : Vérification expérimentales approximative du principe de superposition

auteurs : JM Génevaux ; ressource : [?], paragraphe .

Le problème est plan. Soit une poutre reliant les points A, B, C, et D qui ont comme coordonnées respectivement $(0,0,0)$, $(l/3,0,0)$, $(l/2,0,0)$ et $(l,0,0)$ dans un repère orthonormé direct $(\vec{i}, \vec{j}, \vec{k})$. Le point A est encastré, le point B chargé par une force $-F_1\vec{j}$ (avec $F_1 > 0$), le point C chargé par une force $-F_2\vec{j}$ (avec $F_2 > 0$).

Faites un dessin de la structure, placez le repère global, les points, les éventuels repères locaux, les liaisons et les chargements.

Expérimentalement, la poutre est réalisée avec un spaghetti, l'encastrement à l'aide de deux parallélépipèdes, les chargements, en suspendant avec un fil un tube de tipex ou un stylo.

Mesurez le déplacement du point D sous le chargement en B dû au tipex, puis lorsque le chargement en C est dû au stylo, puis lorsque les deux chargements sont appliqués simultanément.

Le principe de superposition est-il vérifié approximativement ?

brevet 057 : Énergie de déformation

auteur : JM Génevaux ; ressource : [?] ; autoattribution .

Si vous avez du mal à faire ce brevet, je vous invite à lire le paragraphe *Résolution par superposition* et de regarder les vidéos afférentes.

Soit une poutre droite de longueur $l = 1$ m, dont la fibre moyenne relie un point A et un point B, de section droite rectangulaire de largeur $b = 0.15$ m dans la direction \vec{z} et de hauteur $h = 0.02$ m dans la direction \vec{y} , avec s l'abscisse d'un point courant de la poutre tel que $\vec{AH} = s\vec{i}$. Les repères locaux $(\vec{x}, \vec{y}, \vec{z})$ et global $(\vec{i}, \vec{j}, \vec{k})$ coïncident. Le point A est encastré. Un chargement est constitué d'une force à l'extrémité B $\vec{F}_2 = 100\vec{j}$ N. Le module de Young du matériau est $E = 2.1 \cdot 10^{11}$ Pa.

Quelle est l'énergie de déformation W_{int} contenue dans la poutre ?

Formation aux compétences marron et noire de statique des poutres droites.

Chapter 9

Les travaux pratiques

Les textes, les modalités de formation et d'évaluation des travaux pratiques vous seront fournies dans un document séparé. Néanmoins, nous vous invitons à prendre connaissance des sections suivantes.

9.1 Travail pratique : une poutre en flexion

Avant de venir pour ce travail pratique, je vous invite à regarder les vidéos suivantes

Présentation du banc de tp sur le thème "flexion".

accessible dans la vidéo 281 disponible sur <http://umotion.univ-lemans.fr>. Regarde-la.

Le kit de survie en modélisation sur le thème "flexion"

accessible dans la vidéo 493 disponible sur <http://umotion.univ-lemans.fr>. Regarde-la.

Le compte-rendu type à trous qui est accessible via

http://perso.univ-lemans.fr/~jmgenev/12/tp_flex.pdf

n'est complété qu'à moitié. Vous ne serez évalués sur votre manière de compléter l'autre moitié de ce compte-rendu, qu'en terme de compétences et objectifs pédagogiques marron et noire.

Une grille critériée vous est fournie afin que vous puissiez optimiser votre travail via

<http://perso.univ-lemans.fr/~jmgenev/12>.

Lors d'un tp, comment faire lorsque le tracé des points $b(V)$ en fonction de $a(m)$, complété comme il se doit par les incertitudes, met en évidence des incertitudes très petites qui empêchent de tracer avec précision la pente maximale et la pente minimale ?

La réponse est dans la vidéo 293 disponible sur <http://umotion.univ-lemans.fr>. Regarde-la.

9.2 Travail pratique : une poutre en torsion

Avant de venir pour ce travail pratique, je vous invite à regarder les vidéos suivantes

Présentation du banc de tp sur le thème "torsion"

accessible dans la vidéo 266 disponible sur <http://umotion.univ-lemans.fr>. Regarde-la.

Le kit de survie en modélisation sur le thème "torsion"

accessible dans la vidéo 492 disponible sur <http://umotion.univ-lemans.fr>. Regarde-la.

Le compte-rendu type à trous qui est accessible via

http://perso.univ-lemans.fr/~jmgenev/12/tp_tors.pdf

est relativement complet. Vous ne serez évalués sur votre manière de compléter ce compte-rendu, qu'en terme de compétences et objectifs pédagogiques marron et noire.

Une grille critériée vous est fournie afin que vous puissiez optimiser votre travail. Elle est accessible via

<http://perso.univ-lemans.fr/~jmgenev/12>

Quelle est la façon la plus pertinente de présenter un tableau de mesure ?

La réponse est dans les vidéos 330 et 331 disponibles sur <http://umotion.univ-lemans.fr>.
Regarde-la.

Comment savoir combien de mesures sont à faire et dans quel ordre ?

La réponse est dans les vidéos 332 et 333 disponibles sur <http://umotion.univ-lemans.fr>.
Regarde-la.

Comment tracer une courbe de façon la plus pertinente ?

La réponse est dans les vidéos 334 et 335 disponibles sur <http://umotion.univ-lemans.fr>.
Regarde-la.

336 et 337: Comment faire la répétabilité d'une mesure ?

La réponse est dans les vidéos 336 et 337 disponibles sur <http://umotion.univ-lemans.fr>.
Regarde-la.

Comment comparer une mesure à la théorie ?

La réponse est dans les vidéos 338, 339, 340 et 341 disponibles sur <http://umotion.univ-lemans.fr>.
Regarde-la.

Comment calculer l'incertitude sur la réponse d'un modèle ?

La réponse est dans les vidéos 343 et 344 disponibles sur <http://umotion.univ-lemans.fr>.
Regarde-la.

9.3 Travail pratique : une poutre constituée de plusieurs segments assemblés.

Avant de venir pour ce travail pratique, je vous invite à regarder les vidéos suivantes

Présentation du banc de tp sur le thème "poutre non droite".

accessible dans la vidéo 248 disponible sur <http://umotion.univ-lemans.fr>. Regarde-la.

Le kit de survie en modélisation sur le thème "assemblage de poutres droites"

accessible dans la vidéo 494 disponible sur <http://umotion.univ-lemans.fr>. Regarde-la.

Le compte-rendu type à trous qui est accessible via

http://perso.univ-lemans.fr/~jmgenev/12/tp_asse.pdf

est quasiment vide. Vous serez évalués sur votre manière de compléter ce compte-rendu, qu'en terme de compétences et objectifs pédagogiques marron et noire.

Une grille critériée vous est fournie afin que vous puissiez optimiser votre travail via

<http://perso.univ-lemans.fr/~jmgenev/12>.

Chapter 10

Feedback

Merci de flasher le QR code en dernière page pour donner votre feedback sur cette séance ou de cliquer sur <https://sondage.univ-lemans.fr/limesurvey/index.php/387443?lang=fr>.

Pour faciliter vos réponses d'une séance à l'autre, vous pouvez noter ci-dessous :

- votre numéro d'anonymat :

et incrémenter pour chaque séance

- le nombre de fiches dans votre boîte de Leitner depuis le début de l'enseignement :
- le nombre de capacités obtenues depuis le début de l'enseignement :
- le nombre de brevet faits depuis le début de l'enseignement :
- le nombre de vidéos regardées depuis le début de l'enseignement :

Si vous voulez savoir pourquoi l'enseignant vous demande ce feedback, je vous invite à regarder la vidéo *Stratégies gagnantes pour une étudiante en méthode CRAIES ? Une réponse grâce à l'analyse en composantes principales*. qui est disponible sur <http://umotion.univ-lemans.fr/videos/?tag=546>.



			28	33	31	39	90	37		
								38		179
			236	210	225	226	237	78	184	181
								180		
								2		
	54	185	94	40	6	822	821	182		
	186									
	93	42	95	50	89	51	52	96	75	56
										74
									57	97

Figure 10.1: Parcours des brevets : chaque couleur cible une capacité. Barrez les brevets que vous avez fait.

										256
	16	115	61		2	252	251	250	241	
	254		294		19					
	354		258			222	91	238	221	239
	5		53	253						33
	7			18	244	303	4	57	54	34
	10									
	91	541	265	304	8	307	545	281	493	293
										266
	340	339	338	337	336	334	332	331	330	492
	341									
	343	344	248	494						

Figure 10.2: Parcours des vidéos : chaque couleur cible une capacité. Si une vidéo ne vous paraît pas pertinente, barrez-là. Si elle vous paraît pertinente entourez là.